



CLASIFICACIÓN DE LOS POLÍGONOS

SEGÚN SUS LADOS:



SEGÚN SUS LADOS Y ÁNGULOS:

| REGULARES | IRREGULARES |
|---|--|
| <ul style="list-style-type: none">Lados y ángulos iguales | <ul style="list-style-type: none">Lados y ángulos desiguales |
|  |  |

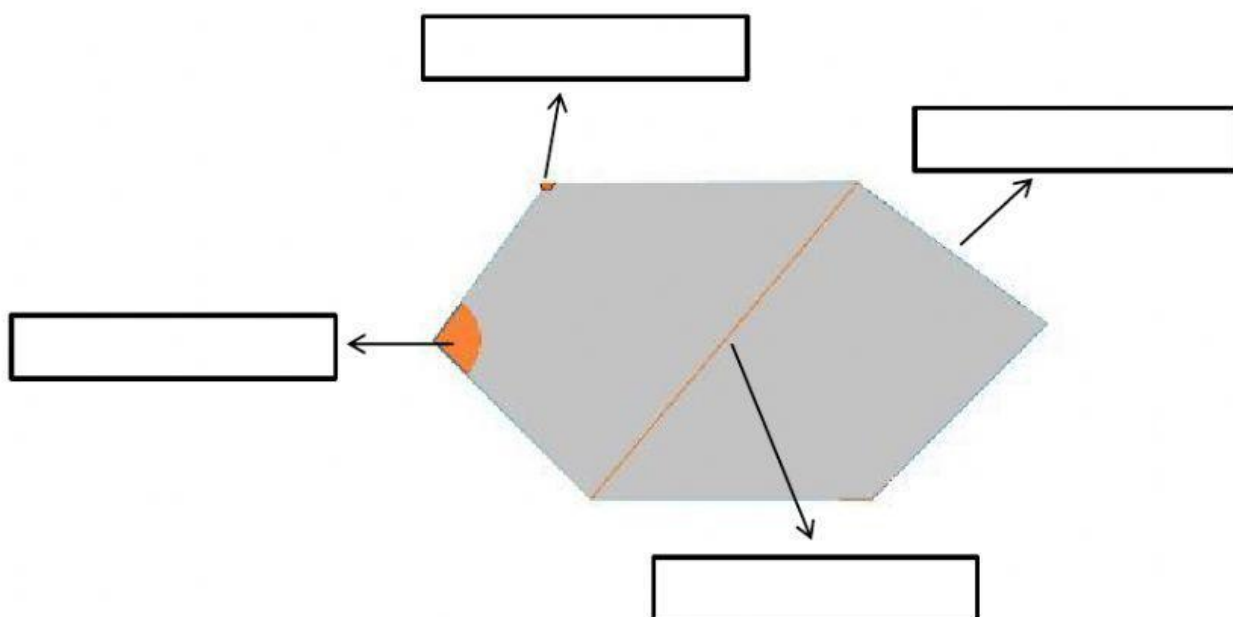
1. Coloca correctamente los nombres:

LADO

VÉRTICE

DIAGONAL









ÁNGULO











2. Une con flechas:

| CONCEPTO | DEFINICIÓN |
|----------|--|
| Lado | Segmentos que unen dos vértices no consecutivos. |
| Vértice | Puntos donde se unen los lados. |
| Ángulo | Ángulos que forman los lados. |
| Diagonal | Segmentos que forman la línea poligonal. |

3. ¿Cómo se llama cada polígono según sus lados?

| | | | |
|---|---|--|---|
|  |  |  |  |
| | | | |
|  |  |  |  |
| | | | |

4. Di si los siguientes polígonos son regulares o irregulares.

| | | | |
|---|---|--|---|
|  |  |  |  |
| | | | |
|  |  |  |  |
| | | | |