

## MACAM-MACAM PENYERBUKAN

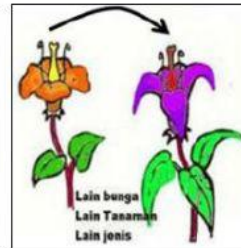
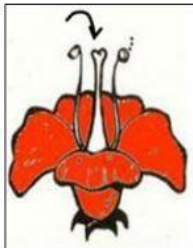
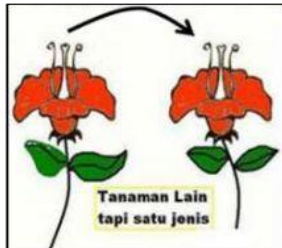
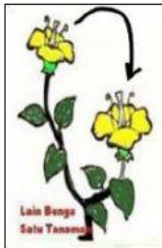
- A. Perhatikan penjelasan pada video di bawah ini!

Nama Siswa :   
Nomor Absen :   
Kelas :   
Sekolah :



- B. Setelah menyimak video tersebut, silahkan kerjakan soal-soal berikut!

1. Pasangkan keterangan di dalam kotak dengan gambar berikut!

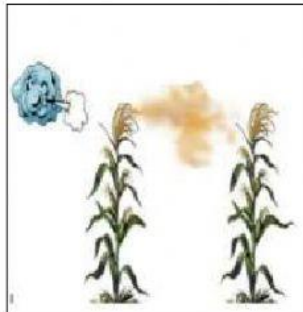


Autogami

Geitonogami

Alogami

Hybridogamy



Anemogami

Entomogami

Ornitogami

Kiropterogami

2. Hubungan yang tepat antara tumbuhan dengan cara penyerbukannya adalah ....

- A. padi dengan bantuan angin, karena bijinya kecil dan mudah diterbangkan
- B. kelapa dengan bantuan angin, karena pohonnya tinggi dan buahnya ringan
- C. tembakau dengan bantuan serangga, karena bijinya kecil dan berlemak
- D. beringin dengan bantuan mamalia, karena buahnya dapat menempel di badan mamalia