

# TUGAS 1

## BAB KOORDINAT KARTESIUS

NAMA :

KELAS :

1. Perhatikan denah berikut:
















Berdasarkan denah tersebut, maka :













#klik kotak yang ada diatas titik-titik lalu pilih jawaban yang paling tepat

- Di sebelah Utara Puskesmas terdapat \_\_\_\_\_
- Kompleks Perumahan terdapat di sebelah \_\_\_\_\_ Pasar Tradisional
- Di sebelah Barat Perumahan Penduduk terdapat \_\_\_\_\_
- Pasar Tradisional terdapat di sebelah \_\_\_\_\_ Sungai

2. Perhatikan gambar berikut:

G							
F							
E							
D							
C							
B							
A							
	1	2	3	4	5	6	7

#klik gambar diatas kemudian seret ketempat jawaban berikut ini sesuai dengan koordinat yang tepat.

 <b>2, A</b>	 <b>3, D</b>	 <b>1, G</b>	 <b>7, A</b>
 <b>4, F</b>	 <b>5, E</b>	 <b>6, B</b>	 <b>3, B</b>
 <b>7, F</b>	 <b>2, F</b>	 <b>1, E</b>	 <b>6, G</b>



3. Dalam suatu perumahan diketahui letak rumah Nazla 500 meter di sebelah timur rumah Salma. Rumah Nabil berada 300 meter di utara dari rumah Salma. Sementara dari rumah Salma letak rumah-rumah lainnya adalah rumah Ivan berada 400 meter ke timur dan 200 meter ke utara, rumah Raya berada 700 meter ke timur dan 300 meter ke selatan, dan rumah Rafi berada 300 meter ke barat dan 200 meter ke selatan. (Catatan : setiap 1 kotak satuan dianggap berjarak 100 meter)

Berdasarkan gambar tata letak pada bidang koordinat kartesius berikut ini, apakah sesuai dengan pernyataan pada soal nomor 3? .....

IYA

TIDAK

#klik kotak disamping kata "BENAR" jika jawaban benar dan klik kotak disamping kata "SALAH" jika jawaban salah

