

LEMBAR KERJA PESERTA DIDIK

KELAS IV

TEMA : NATURAL RESOURCES

NAMA : _____

KELAS : _____

TANGGAL PEMBERIAN PENUGASAN :

30 AGUSTUS 2021

TANGGAL PENGUMPULAN PENUGASAN :


4 SEPTEMBER 2021

MATERI POKOK

**MENGELOMPOKKAN SEGI BANYAK DAN
BUKAN SEGI BANYAK**



Sebelum teman-teman sholih dan sholihah mengerjakan tantangan, silakan menonton video penjelasan materi pembelajaran hari ini!



A. Berilah tanda ceklis pada pernyataan yang tepat!

1. Manakah pernyataan yang tepat sesuai dengan pengertian segi banyak?

Segi banyak merupakan bangun datar terbuka yang dibatasi oleh ruas garis lurus.

Segi banyak merupakan bangun datar tertutup yang dibatasi oleh ruas garis lurus.

2. Manakah yang merupakan syarat bangun datar dikatakan segi banyak? (Boleh memilih lebih dari satu jawaban)

Sisinya terbuka

Ruas garis melengkung

Ruas garis lurus

Garis tidak menyilang

Terdapat garis menyilang

Sisinya tertutup


B. Jawablah pertanyaan berikut dengan tepat!

1. Perhatikan gambar di samping!
- a. Apakah gambar di samping termasuk bangun datar segi banyak? _____.
- b. Jika iya, berapa banyak sisinya?
_____.



2. Tuliskan 3 benda yang permukaannya memiliki bentuk segibanyak!
_____.

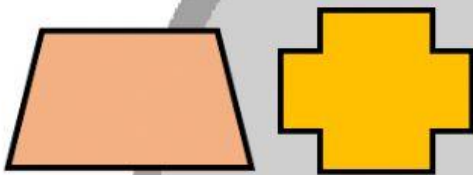
3. Perhatikan gambar berikut!



a. Apakah bangun datar di samping termasuk bangun datar segi banyak? _____.

b. Berikan alasanmu!

4. Perhatikan gambar berikut!



a. Apakah bangun datar di samping termasuk bangun datar segi banyak? _____.

b. Berikan alasanmu!

C. Lengkapi tabel berikut dengan memindahkan gambar bangun datar yang sesuai dengan kelompok "Segi Banyak" dan "Bukan Segi Banyak".

NO	Segi Banyak	Bukan Segi Banyak
1.		
2.		
3.		
4.		

