

PRUEBA CONTEXTUALIZADA DE CIENCIAS SOCIALES GRADO 5F. SEDE ABSALÓN FERNÁNDEZ DE SOTO.

- Las siguientes imágenes muestran Organismos Nacionales e Internacionales de Protección de Derechos Humanos. Solo señala una respuesta, la que contenga los Organismos Colombianos de Protección de Derechos Humanos:


a.



b.

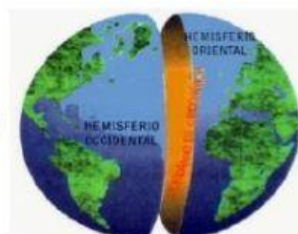


- En qué Hemisferios de la Tierra se ubica nuestro territorio nacional "Colombia". Solo señala una respuesta.



EL ECUADOR ES LA LÍNEA IMAGINARIA QUE DIVIDE A LA TIERRA EN EL HEMISFERIO NORTE Y EL HEMISFERIO SUR

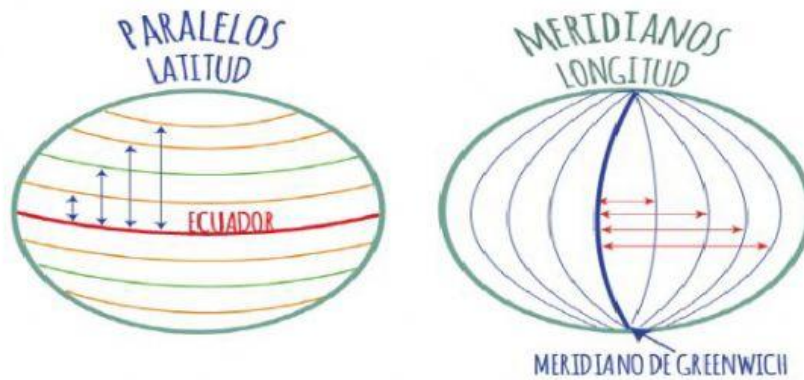
EL MERIDIANO DIVIDE LA TIERRA EN HEMISFERIO ESTE Y HEMISFERIO OESTE



Hemisferio Oriental y Hemisferio Sur

Hemisferio Occidental y Hemisferio Norte

3. Qué son los Meridianos y qué miden en la Tierra? Solo señala una respuesta



Son Líneas que atraviesan la Tierra de Occidente a Oriente y miden la Latitud

Son Líneas que atraviesan la Tierra de Norte a Sur y miden la Longitud.

4. Qué forma parte del territorio Colombiano? Solo señala una respuesta.

Una porción terrestre y un espacio aéreo.

Una porción marítima y un espacio aéreo.

Una porción terrestre, una porción marítima y un espacio aéreo.

5. Las Fronteras Terrestres y Marítimas de Colombia son: Selecciona el nombre del país correspondiente a cada lugar. Hay 9 palabras, y solo debes escoger 7 lugares.

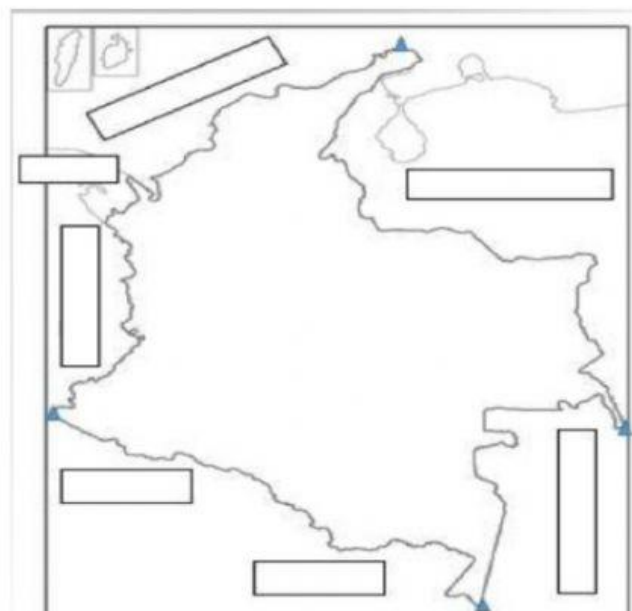
Océano
Atlántico

Perú

Océano
Pacífico

Panamá

Ecuador



Venezuela

Paraguay

Brasil

Bolivia