

# ¿Qué sabes de la unidad 9?

1.- Coloca y resuelve estas cuentas. Después ordena los resultados de mayor a menor.

$47 + 38$

$25 + 36$

$49 + 9$

$16 + 68$

	D	U


	D	U

	D	U

	D	U

..... > ..... > ..... > .....

2.- Cuenta los triángulos que forman el tangram.



- El tangram está formado por ..... triángulos.

3.- Selecciona las monedas que necesita para comprar estos productos

3,26 €

4,30 €


## Números ordinales




### ¿Cuáles son verdad?

- ☐ Hay un pincel en décimo lugar
- ☐ El vaso de leche no es el sexto
- ☐ El autobús es el tercero
- ☐ El libro verde es el octavo
- ☐ Las gafas están en primer lugar
- ☐ El compás no es el segundo
- ☐ Hay una lupa en octavo lugar
- ☐ Las tijeras se encuentran en cuarto lugar
- ☐ El libro verde está en noveno lugar
- ☐ El bolígrafo es el sexto
- ☐ Hay un libro rosa en primer lugar
- ☐ El autobús no es el quinto
- ☐ La lupa está en octavo lugar
- ☐ Hay un libro en el segundo lugar

5.- Une como corresponda:



triángulo



cuadrado