

ชื่อ

ชั้น

เลขที่

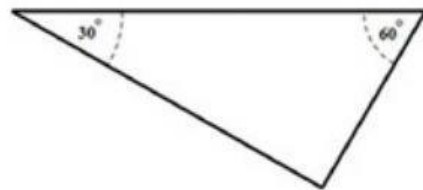
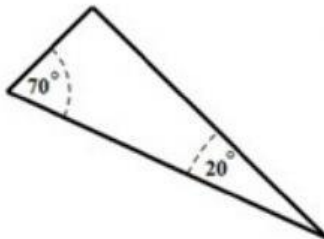
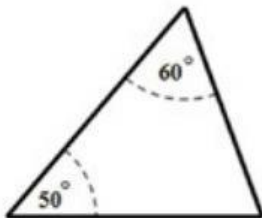
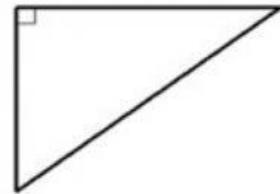
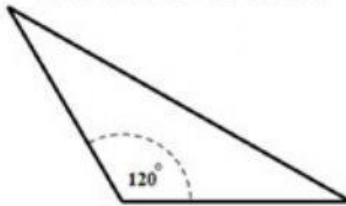
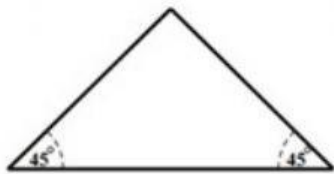
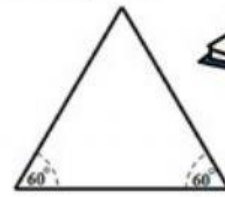
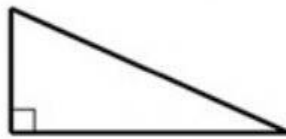
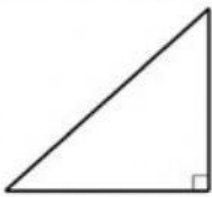


ใบงานที่ 1 ทบทวนความรู้สามเหลี่ยมมุมฉาก และ เลขยกกำลัง

มาตรฐาน ค 2.2 ตัวชี้วัด ม.2/5 เข้าใจและใช้ทฤษฎีบทพีทาโกรัสและบทกลับในการแก้ปัญหาคณิตศาสตร์ และปัญหาในชีวิตจริง

แบบฝึกหัดที่ 1.1 ทบทวนความรู้ เรื่อง สามเหลี่ยมมุมฉาก

คำชี้แจง : ให้นักเรียนพิจารณารูปสามเหลี่ยมที่กำหนดให้ต่อไปนี้ รูปใดเป็นสามเหลี่ยมมุมฉาก



สามเหลี่ยมมุมฉาก คือ

แบบฝึกหัดที่ 1.2 ทบทวนความรู้ เรื่อง เลขยกกำลัง

a^2 หมายถึง ตัวอย่างเช่น $10^2 = \dots = \dots$

คำชี้แจง : ให้นักเรียนเติมคำตอบลงในช่องว่างให้ถูกต้อง

1) $1^2 = \dots = \dots$ 2) $2^2 = \dots = \dots$ 3) $3^2 = \dots = \dots$

4) $4^2 = \dots = \dots$ 5) $5^2 = \dots = \dots$ 6) $6^2 = \dots = \dots$

7) $(1.5)^2 = \dots = \dots$ 8) $(2.5)^2 = \dots = \dots$ 9) $(3.2)^2 = \dots = \dots$