



ESCOLA: _____

TURMA: 1º ANO


PROFESSORA: _____ DATA: / /2021

ALUNO: _____

MATEMÁTICA

QUESTÃO 1(D1.1)

OBSERVE A COLEÇÃO DE CAIO:



QUANTAS BOLAS CAIO TEM NO TOTAL? MARQUE A OPÇÃO CORRETA COM UM **X**.

6

8

10

QUESTÃO 2(D1.2)

CAIO QUER MAIS UMA BOLA PARA SUA COLEÇÃO. AJUDE-O CHEGAR ATÉ ELA. ARRASTE E COMPLETE A TRILHA NUMÉRICA.



11

9

8

5

6

2

1



10















7

3

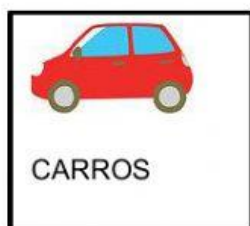
4

QUESTÃO 3(D1.3)

ESTA É A COLEÇÃO DOS AMIGOS DE CAIO.

BENJAMIM	PIETRO	ADRIEL
		
		
		
		
		
		
		

COMPLETE A TABELA COM A QUANTIDADE TOTAL DE OBJETOS.



RESPONDA. QUAL DOS AMIGOS DE CAIO TEM MAIS OBJETOS NA COLEÇÃO?

