



Representando Decimales

1. Representa los siguientes decimales siguiendo el ejemplo


0,49




0,26




0,71




0,34




0,13




0,10




0,55




0,92



1,25




2,75



Cinco décimos ►



0,4 ►



2. Representa con palabras cada fracción o número decimal.

a. $\frac{2}{10}$ ► _____

b. $\frac{55}{100}$ ► _____

c. 0,48 ► _____

d. 0,09 ► _____



3. Une la escritura con palabras con el número decimal correspondiente

Seis centésimos.

0,6

Cuatro enteros y seis décimos.

4,6

Seis décimos.

2,04

Dos enteros y cuatro centésimos.

0,06