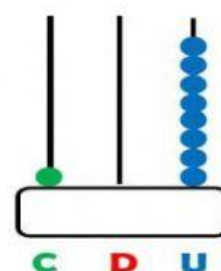
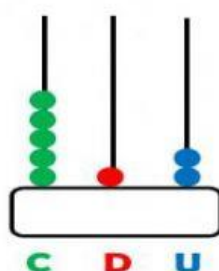
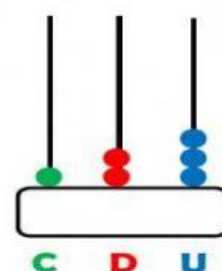
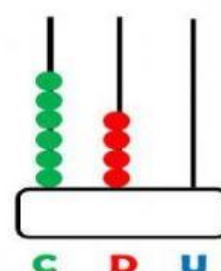
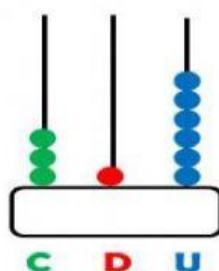
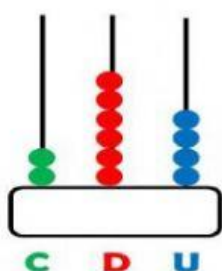


1. Observa los ábacos y escribe el número que se forma dentro de cada cuadro.



2. Lee cada cantidad y ubica arrastrando en cada cuadro el número que corresponda.

569

627

746

581

755

831

Quinientos
ochenta y uno

Setecientos
cuarenta y seis

Seiscientos
veintisiete

Quinientos
sesenta y nueve

Setecientos
cincuenta y cinco

Ochocientos
treinta y uno

3. Realiza las sumas.

$$\begin{array}{r} \square \\ 365 \\ + 115 \\ \hline \square \square \square \end{array}$$

$$\begin{array}{r} \square \\ 332 \\ + 186 \\ \hline \square \square \square \end{array}$$

4. Realiza las restas.

$$\begin{array}{r} \square \square \\ 363 \\ - 209 \\ \hline \square \square \square \end{array}$$

$$\begin{array}{r} \square \square \\ 320 \\ - 116 \\ \hline \square \square \square \end{array}$$

5. Escribe el nombre de cada número en letra.

540

680

770

890