



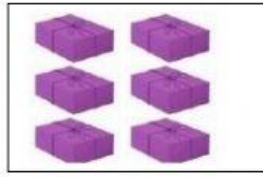
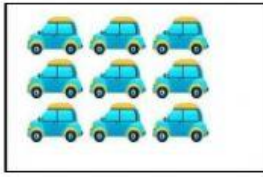


Họ và tên:

PHIẾU BÀI TẬP TOÁN

Lớp: 1A.....

Bài 1: Số?



Bài 2: Số?

	1		3	
--	---	--	---	--

10			7			
----	--	--	---	--	--	--

		2					7			
--	--	---	--	--	--	--	---	--	--	--

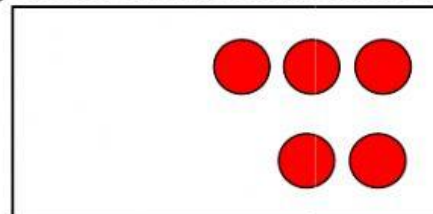
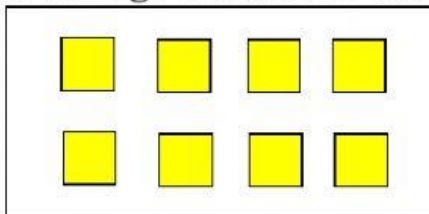
0	2	4	6		
---	---	---	---	--	--

1	3	5		
---	---	---	--	--

Bài 3: Đúng ghi Đ, sai ghi S vào ô trống.

- Số bé nhất có một chữ số là 1.
- Số lớn nhất có một chữ số là 9.
- Trong các số từ 0 đến 10, số lớn nhất là 10.
- Có 10 số có một chữ số.
- Các số bé hơn 5 là: 4; 3; 2; 1; 0
- Các số: 1; 3; 5; 7; 9 là số chẵn.

Bài 4: Cần thêm bao nhiêu hình tròn để số hình tròn nhiều hơn số hình vuông? Đánh dấu vào ô trống trước nhóm hình con chọn.



--	--

--	--

--	--