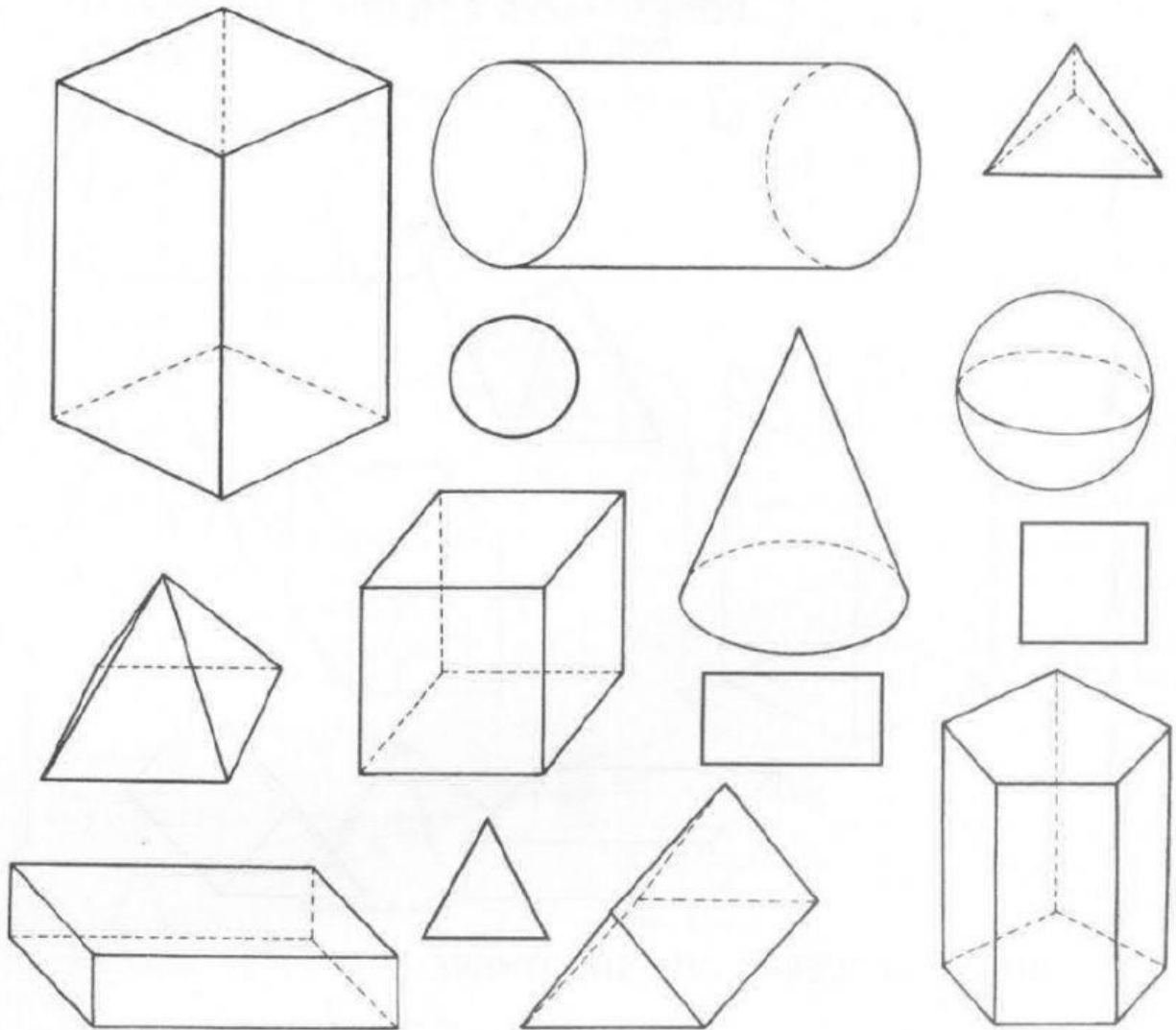


¿CUERPOS O FIGURAS?

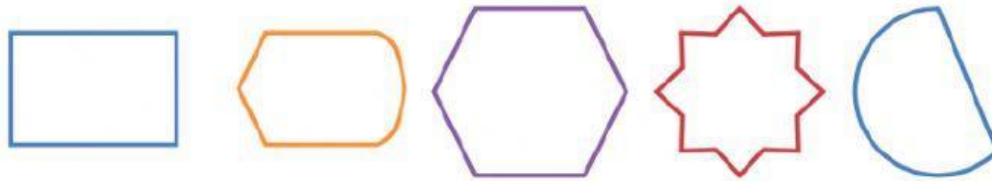
PINTÁ CON ROJO LOS CUERPOS Y CON AZUL, LAS FIGURAS.



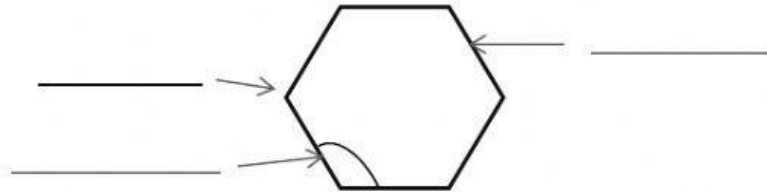
COMPLETÁ EL CUADRO, PENSANDO OBJETOS QUE TENGAN FORMA DE...

CUERPOS	OBJETOS
CILINDRO	PAQUETE DE PASTILLA, ...
CUBO	DADO, ...
ESFERA	PELOTA, ...
PRISMA	CAJA DE FÓSFOROS, ...
CONO	BONETE, ...

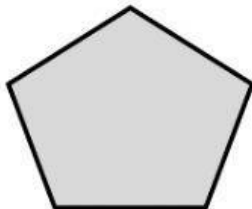
1.- Rodea las figuras planas



2.- Señala los elementos de este polígono.

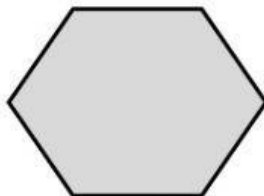


3.- Indica el número de lados, de vértices y de ángulos que tiene el siguiente polígono.



- Lados \longrightarrow _____
- Vértices \longrightarrow _____
- Ángulos \longrightarrow _____

4.- Indica el número de lados, de vértices y de ángulos que tiene el siguiente polígono.



- Lados \longrightarrow _____
- Vértices \longrightarrow _____
- Ángulos \longrightarrow _____