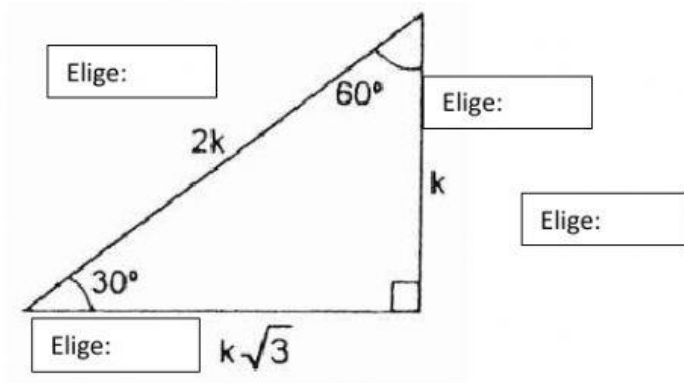


FICHA DEL TRIGONOMETRÍA DEL PRIMER GRADO DE SECUNDARIA

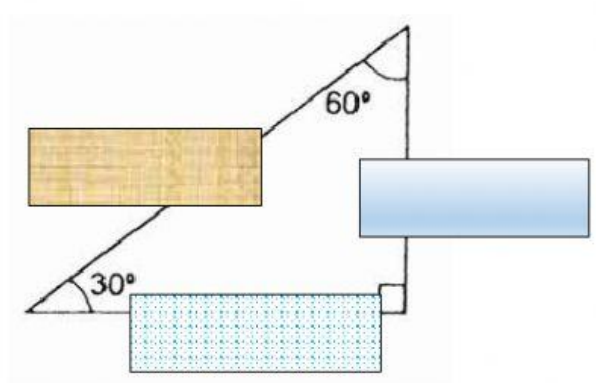
TEMA: ANGULOS NOTABLES

RESUELVE LOS EJERCICIOS PROPUESTOS

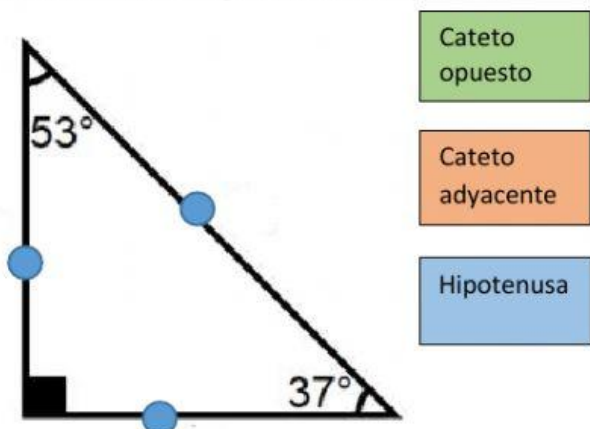
1) Indica el nombre correcto de los lados del rectángulo respecto al ángulo de 30°



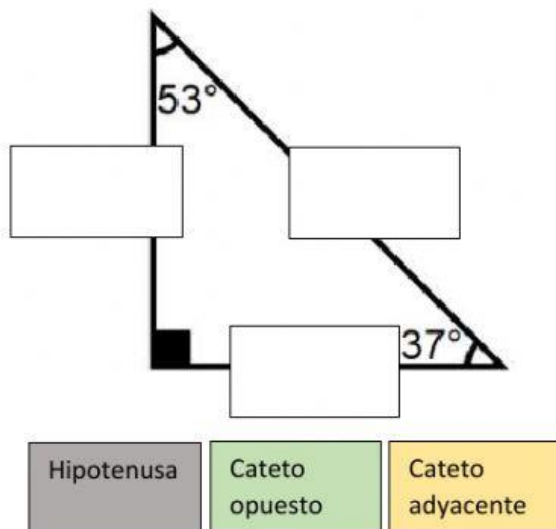
2) Escribe el nombre correcto los lados del triángulo triángulo rectángulo respecto al ángulo de 60°



3).Mediante flechas señala el nombre de cada lado del correcto el del triángulo notable, respecto a 37°



4) Traslada el recuadro con el nombre que corresponde a cada lado respecto a 53°



Haz clic escucha y **CONTESTA LAS PREGUNTAS:**



DAYS OF THE WEEK

- 1) Observa atentamente el video y usando el micrófono haz la pronunciación de la palabra indicada

Friday

Saturday

Monday

Toca play para escuchar una música relajante

- 2) Escucha y marca la alternativa correcta



verdadero

falso

Haz clic aquí. Y lee el texto

Cual consideras el valor más importante?

SOPA DE LETRAS



B	A	E	T	Z	V	P	B
H	R	M	H	R	P	E	Z
J	I	R	A	F	A	R	A
M	R	S	B	A	N	R	S
C	A	B	A	L	L	O	Z
Z	T	O	R	T	U	G	A
F	O	C	A	B	H	R	V
S	N	T	M	L	E	O	N