

# LEMBAR KERJA PESERTA DIDIK

## Posisi Titik pada Bidang Koordinat

Matematika Kelas VIII  
Semester I



**SMP KATOLIK SANTO  
ANTONIUS MATARAM  
TAHUN AJARAN 2021/2022**

NAMA :

KELAS :

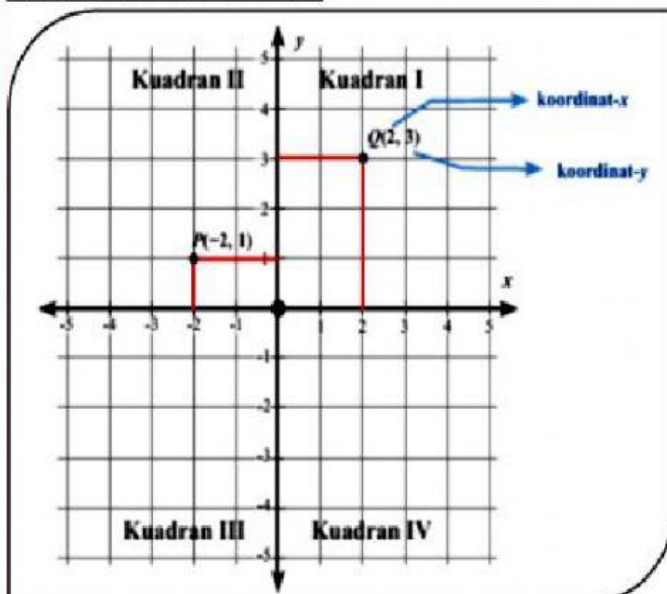
### A. Simak Video

Silahkan disimak video berikut untuk memudahkan dalam menyelesaikan LKPD berikut!



### B. Membaca Posisi Titik pada Bidang Koordinat

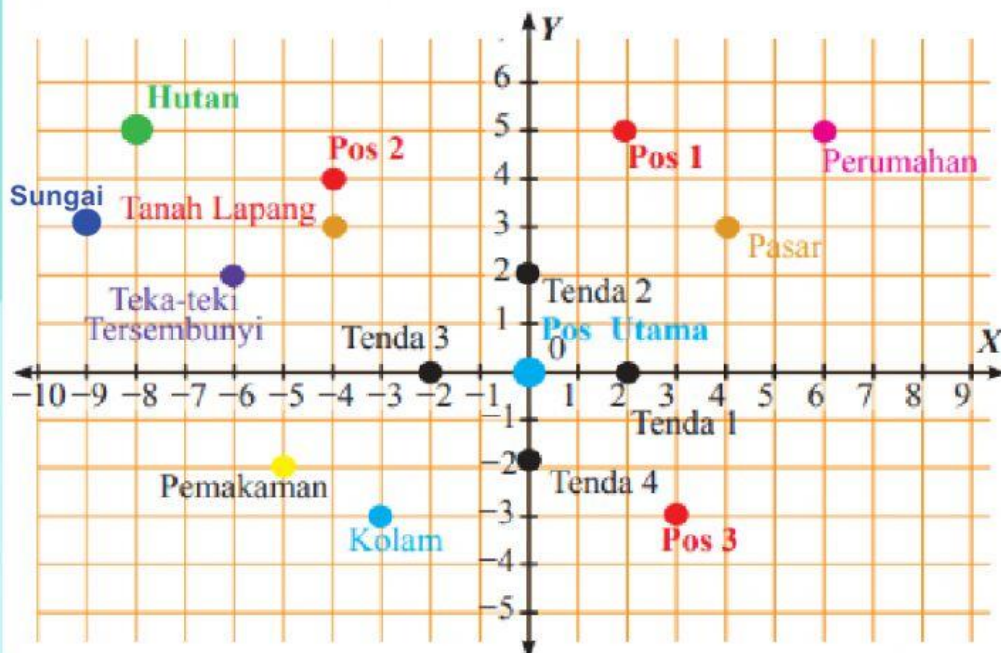
**Perhatikan Gambar Berikut!**



- ❖ **Koordinat Cartesius** terdiri dari 2 buah sumbu yaitu sumbu-x (sumbu mendatar) dan sumbu-y (sumbu vertikal).
- ❖ Sumbu-x dan sumbu-y membagi bidang koordinat menjadi 4 kuadran, yaitu kuadran I, kuadran II, kuadran III, dan kuadran IV.

Dari gambar di atas kita dapat menentukan:

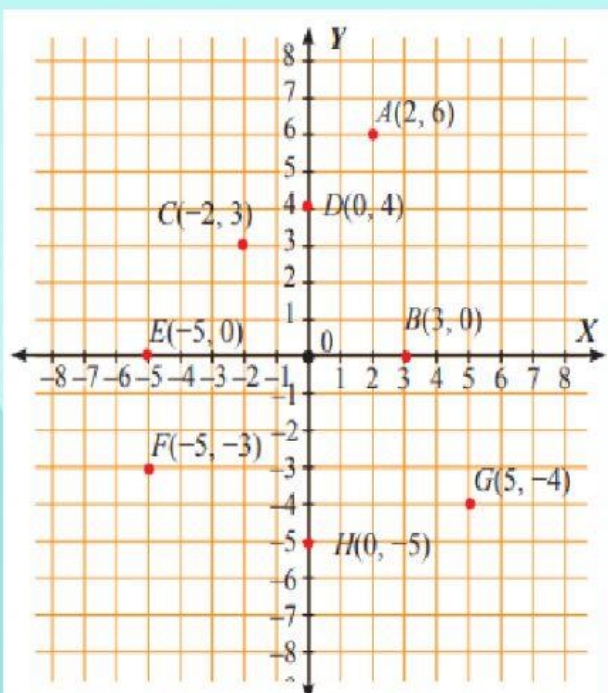
- ❖ Koordinat titik Q adalah  $(2,3)$  artinya titik Q berjarak 2 satuan terhadap sumbu-y dan 3 satuan dari sumbu-x.
- ❖ Koordinat titik P adalah  $(-2,1)$  artinya titik P berjarak 2 satuan terhadap sumbu-y dan 1 satuan dari sumbu-x.



Para kelompok pramuka tersebut terbagi menjadi empat kelompok. Masing-masing kelompok menempati satu tenda, yaitu tenda 1 pada koordinat (2,0), tenda 2 di (.....,.....), tenda 3 di (.....,.....), dan tenda 4 di (.....,.....). Koordinasi setiap kegiatan dilakukan di posko utama, yaitu di (.....,.....).

Sebelum kegiatan “mencari jejak” dilakukan, mereka diingatkan untuk mengikuti setiap petunjuk yang diberikan di setiap pos, yaitu pos 1 di (.....,.....), pos 2 di (.....,.....), dan pos 3 di (.....,.....). Mereka juga dilarang masuk ke hutan, yaitu di (.....,.....) karena sangat berbahaya. Selain itu, mereka juga harus berhati-hati saat melewati tanah lapang yang cukup luas di (.....,.....), pemakaman di (.....,.....), dan sungai di (.....,.....). Para anggota pramuka itu juga harus berusaha mencari adan memecahkan teka-teki yang disembunyikan di (.....,.....).

### C. Jarak Titik terhadap Sumbu



Perhatikan koordinat kertesius disamping, kemudian isilah tabel berikut! (Ikuti format contohnya)

Titik	Koordinat	Jarak terhadap Sumbu X	Jarak terhadap Sumbu Y
A	(2,6)	6 satuan	2 satuan
B			
C			
D			
E			
F			
G			
H			



Berdasarkan isian pada tabel tersebut diperoleh beberapa informasi berikut.

1. Titik yang berjarak 0 satuan terhadap sumbu  $x$  adalah titik ... dan titik ...
2. Titik yang berjarak 3 satuan terhadap sumbu  $x$  adalah titik ... dan titik ...
3. Titik yang berjarak 4 satuan terhadap sumbu  $x$  adalah titik ... dan titik ...
4. Titik yang berjarak 5 satuan terhadap sumbu  $x$  adalah titik ...
5. Titik yang berjarak 6 satuan terhadap sumbu  $x$  adalah titik ...
6. Titik yang berjarak 0 satuan terhadap sumbu  $y$  adalah titik ... dan titik ...
7. Titik yang berjarak 2 satuan terhadap sumbu  $y$  adalah titik ... dan titik ...
8. Titik yang berjarak 3 satuan terhadap sumbu  $y$  adalah titik ...
9. Titik yang berjarak 5 satuan terhadap sumbu  $y$  adalah titik ... , titik ... dan titik ...

