

# MATEMÁTICAS

## 1º GRADO DE EDUCACIÓN BÁSICA

Nombre del alumno(a):

1. Cuente las siguientes figuras y escriba la cantidad por cada una.



2. Resuelva las siguientes sumas arrastrando la respuesta correcta.

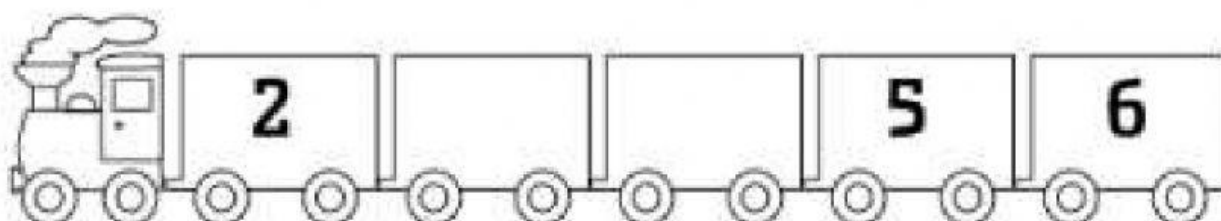
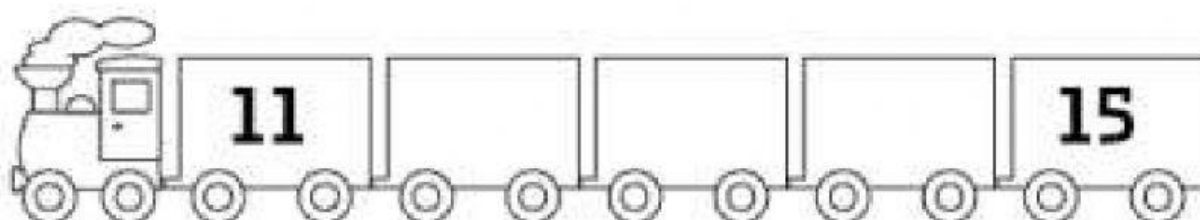
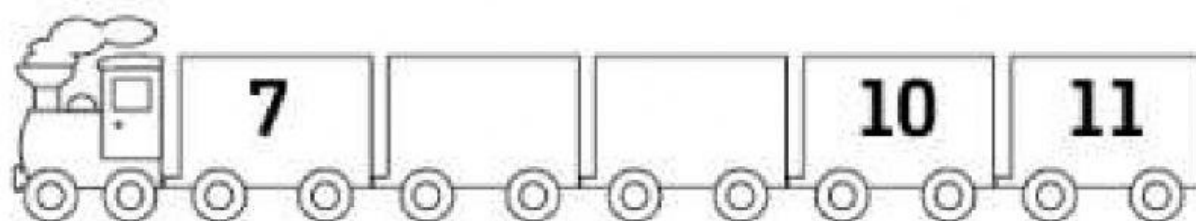
10

5

4

$$\begin{array}{rcl} \begin{array}{|c|} \hline 2 \\ \hline \end{array} & + & \begin{array}{|c|} \hline 2 \\ \hline \end{array} = \begin{array}{|c|} \hline \\ \hline \end{array} \\ \begin{array}{|c|} \hline 7 \\ \hline \end{array} & + & \begin{array}{|c|} \hline 3 \\ \hline \end{array} = \begin{array}{|c|} \hline \\ \hline \end{array} \\ \begin{array}{|c|} \hline 4 \\ \hline \end{array} & + & \begin{array}{|c|} \hline 1 \\ \hline \end{array} = \begin{array}{|c|} \hline \\ \hline \end{array} \end{array}$$

3. Completa los números que faltan.



4. Une con una línea el resultado de cada resta.

$$7 - 3$$

$$8 - 5$$

$$4 - 3$$

$$6 - 6$$

0

3

4

1