

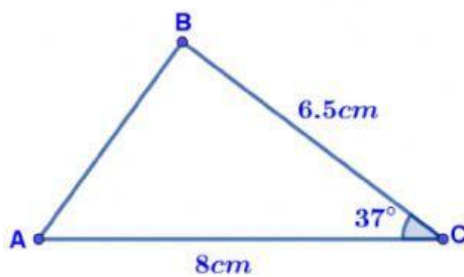
Área de triángulos oblicuángulos utilizando trigonometría



Indicación: resuelve las siguientes áreas de triángulo dando un clic en la respuesta que consideres correcta. Puedes apoyarte del siguiente video.



1) ¿Cuál es el área del siguiente triángulo?



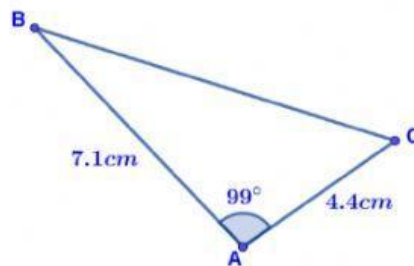
A) 26cm^2

B) 20.7cm^2

C) 15.6cm^2

D) 7.8cm^2

2) ¿Cuál es el área del siguiente triángulo?



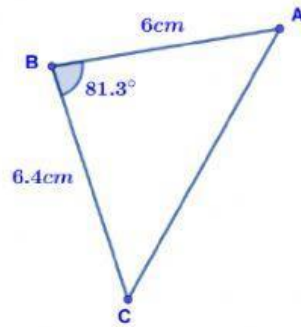
A) 7.7cm^2

B) 15.4cm^2

C) 17.2cm^2

D) 5.7cm^2

3) ¿Cuál es el área del siguiente triángulo?



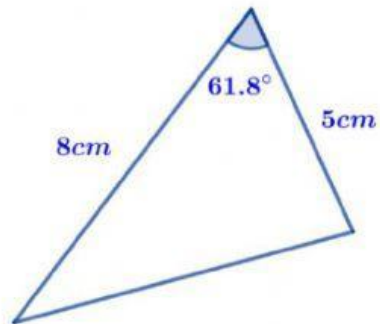
A) 18.9cm²

B) 17.8cm²

C) 9.5cm²

D) 12.7cm²

4) ¿Cuál es el área del siguiente triángulo?



A) 9.1cm²

B) 8.8cm²

C) 11.8cm²

D) 17.6cm²