

# La balance et les égalités

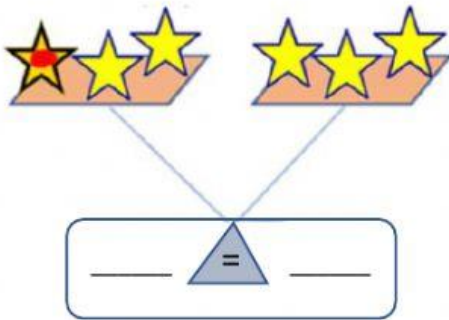
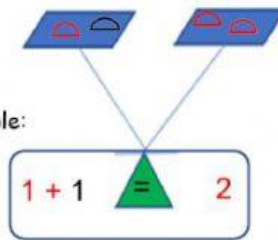
Étapes à suivre pour l'activité :

- 1-  Observe les plateaux des balances.
- 2-  Écris des **phrases mathématiques** à l'aide des situations d'égalité
- 3-  Dis ta phrase mathématique.

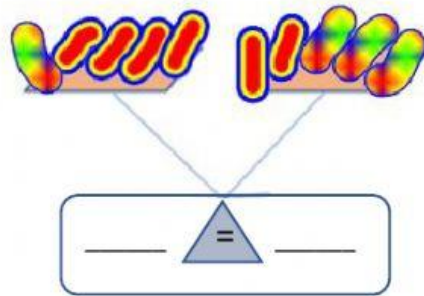
Exemple:



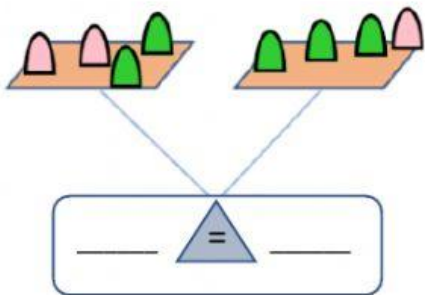
Ma phrase mathématique : →



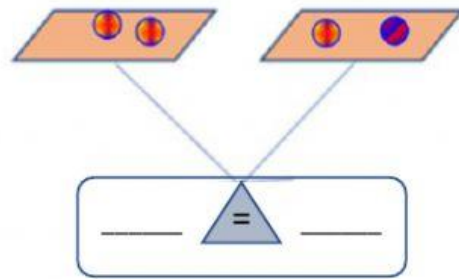
Ma phrase mathématique est \_\_\_\_\_



Ma phrase mathématique est \_\_\_\_\_



Ma phrase mathématique est \_\_\_\_\_



Ma phrase mathématique est \_\_\_\_\_