




**SD DARUL HIKAM BANDUNG**  
**LKS Menyelesaikan Soal Cerita Pengurangan**  
**Kelas III Tahun Pelajaran 2021-2022**

**Mata Pelajaran** : Tematik (Tema 1)  
**Nama** :  
**Kelas** :



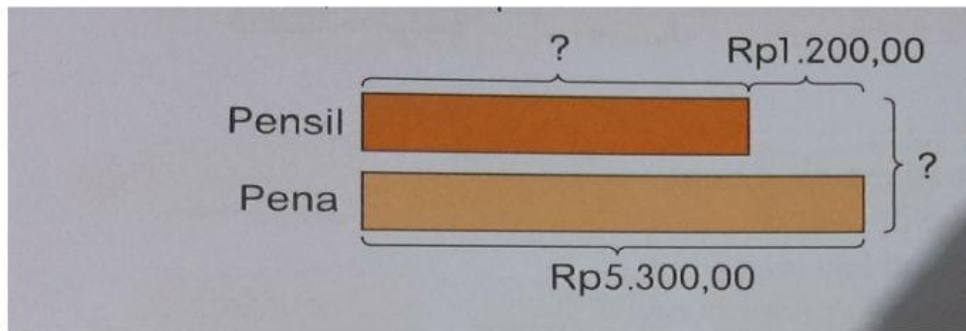
*Simak video berikut ini!*



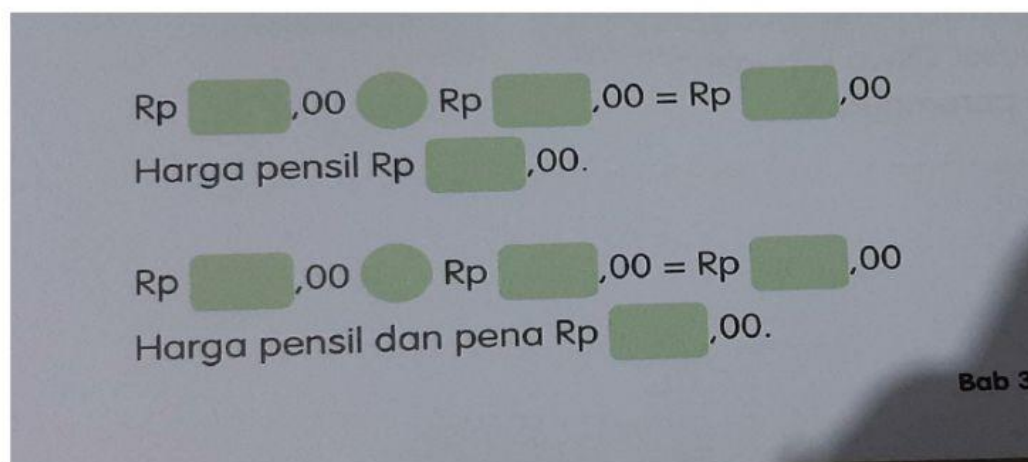
*Setelah menyimak video, selesaikan soal cerita pengurangan di bawah ini !*

1.  
Harga sebuah pena Rp5.300,00.  
Harga sebuah pensil Rp1.200,00 lebih murah daripada harga sebuah pena.  
Berapa harga pena dan pensil?

Model



Kalimat Matematika :



2. Harga gantungan kunci Rp5.700,00.

Harga sebuah magnet Rp1.500,00 lebih murah daripada gantungan kunci.

- Berapa harga magnet?
- Berapa harga keduanya?

Jawab :

a. \_\_\_\_\_ - \_\_\_\_\_ = \_\_\_\_\_

b. \_\_\_\_\_ + \_\_\_\_\_ = \_\_\_\_\_

Kesimpulan

Jadi harga keduanya adalah \_\_\_\_\_

الْحَمْدُ لِلَّهِ رَبِّ الْعَالَمِينَ