


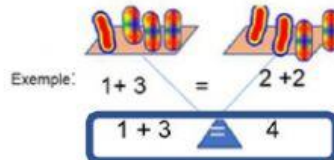


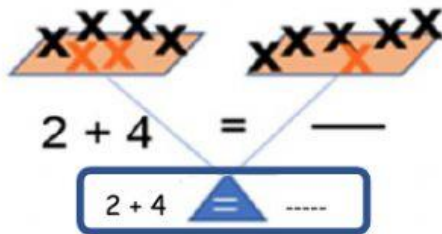
Les balances et les égalités 2

Étapes à suivre pour l'activité :

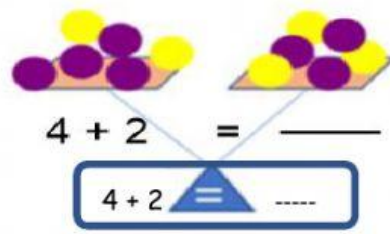
- 1-  Observe les plateaux des balances.
- 2-  Écris des **phrases mathématiques** à l'aide des situations d'égalité.
- 3-  Dis ta phrase mathématique.



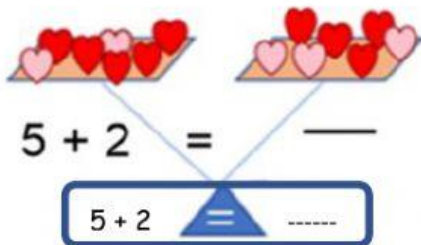
Ma phrase mathématique est $1 + 3 = 4$.



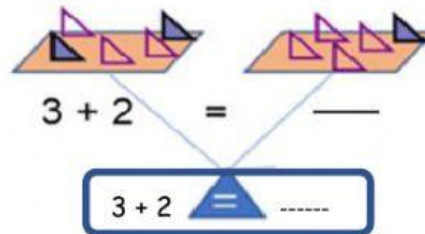
Ma phrase mathématique est _____



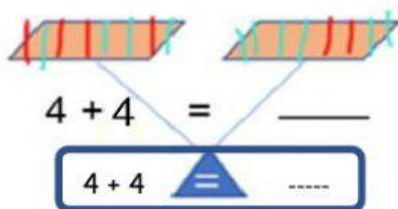
Ma phrase mathématique est _____



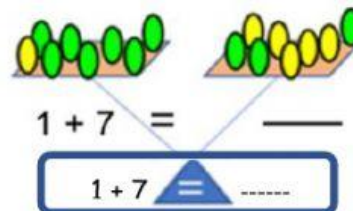
Ma phrase mathématique est _____



Ma phrase mathématique est _____



Ma phrase mathématique est _____



Ma phrase mathématique est _____