

Sección Primaria
 Examen Trimestral de Ciencias Sociales
 Segundo Trimestre

Nombre: _____ Grado: 1° A-B Fecha: _____
 Docentes: Kenia Carrera / Francisca González Valor: 50 Puntos

I. Señala el medio de transporte adecuado para viajar según cada caso. 6 puntos

a. Rubén irá a Isla Iguana en las vacaciones.




b. Los estudiantes tienen clases en la Academia Integral San Lucas.



c. La familia visitará en las vacaciones Puerto Rico.



II. Marca con un  la imagen que muestra la forma correcta de transitar por las vías públicas según cada caso. 5 puntos


☐

☐

☐

☐

☐

☐

☐

☐

III. Clasifica cada señal vial según su función en la vía pública. 6 puntos



• Señales de información •



• Señales de reglamentación •



• Señales de prevención •



IV. Clasifica los medios de comunicación en el siguiente cuadro. 6 puntos

Medios de comunicación masivos	Medios de comunicación individuales	Medios de comunicación audiovisuales



V. Relaciona con una línea los derechos con los deberes correspondientes que tienes en el hogar. 3 puntos

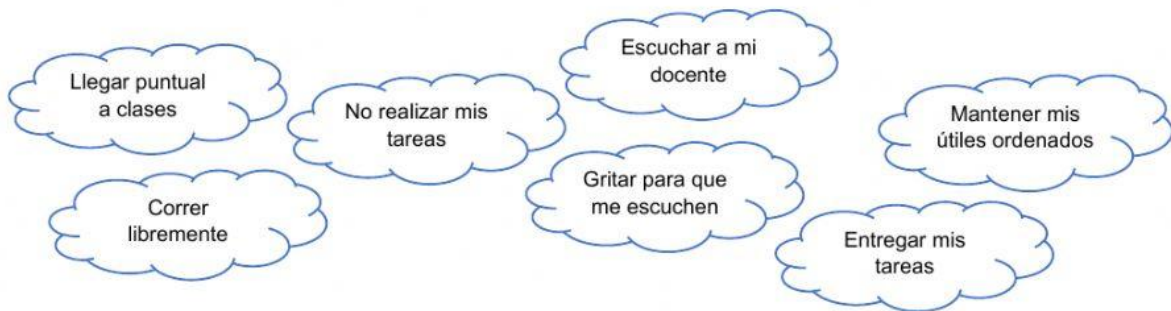
Derechos



Deberes



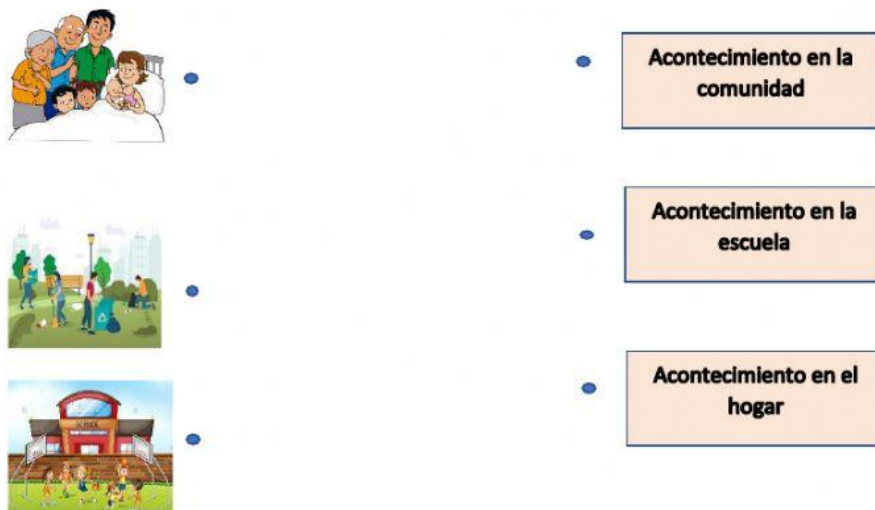
VI. Marca las nubes con deberes en el salón de clases. 4 puntos



VII. Elige la respuesta correcta según cada situación. 8 puntos



VIII. Relaciona el acontecimiento con su entorno. 3 puntos



IX. Marca con un ☒ la institución según la función que realiza en la comunidad. 4 puntos



hospital

Bomberos

municipio



bomberos

escuela

policía



policía

Sinaproc

escuela



escuela

biblioteca

municipio

X. Identifica elementos culturales de Panamá. 5 puntos

