


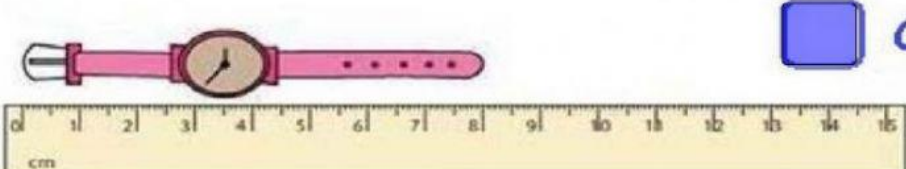



COLEGIO AGUSTINIANO  
EVALUACIÓN DE GEOMETRÍA---- TERCERO


NOMBRE: \_\_\_\_\_

1. Escribe cuanto miden los objetos:

1)   CM

2)   CM

3)   CM

4)   CM

2. Marca una X los objetos que se vendan por metros:

SEÑALÁ CUÁLES DE ESTAS COSAS SE VENDEN POR METRO



3. Escribe el nombre de cada unidad:

Escribe el nombre de cada unidad.

Km	<input type="text"/>	M	dm	<input type="text"/>
Hm	<input type="text"/>		cm	<input type="text"/>
Dm	<input type="text"/>	<input type="text"/>	mm	<input type="text"/>

4. Convierte las unidades indicadas:

6 km =  hm

50 cm =  dm

400 dam =  m

3000 mm =  cm

5.

-Escribe qué unidad de medida usarías:












km  
cm  
m

