



Nama :

Kelas :

No. absen :

LATIHAN SOAL SB DP TEMA 2 ST 2

1. Asal daerah tari Indang yaitu
 - a. Minangkabau, Sumatra Barat
 - b. Minahasa, Sulawesi Utara
 - c. Pontianak, Kalimantan Barat
 - d. Palu, Sulawesi Tengah
2. Pola lantai tari ada bermacam-macam. Pola lantai horisontal adalah
 - a. Lurus ke depan atau ke belakang
 - b. Lurus ke kanan atau ke kiri
 - c. membentuk lingkaran
 - d. lurus menyilang
3. Gerakan tari Indang yaitu
 - a. lemah gemulai
 - b. lemah lembut
 - c. cepat dan monoton
 - d. rancak dan dinamis
4. Tarian adat dari Suku Gayo (Aceh) yang biasanya ditampilkan untuk merayakan peristiwa penting dalam adat adalah tari
 - a. Saman
 - b. Piring
 - c. Serimpi
 - d. Tor Tor
5. Tari Indang termasuk jenis tarian yang dilakukan secara ...
 - a. Tunggal
 - b. Berpasangan
 - c. Berkelompok
 - d. Masal
6. Tangan kanan ke depan, kemudian memukul lantai (bagian depan badan). Sedangkan tangan kiri ke belakang , kemudian memukul lantai (bagian belakang badan).

Gambar yang cocok dengan deskripsi diatas adalah ...

a.



b.



c.



d.



7. Tari Saman ditarikan dalam keadaan ...
 - a. berdiri
 - b. jongkok
 - c. duduk
 - d. tiduran
8. Sebutan lain dari tari Indang adalah ...
 - a. tari dindin badindin
 - b. tari piring
 - c. tari rebana
 - d. tari selendang
9. Alat musik yang biasanya dimainkan pada tari Indang adalah ...
 - a. gitar
 - b. biola
 - c. rebana
 - d. terompet

10. Perhatikan gambar berikut !

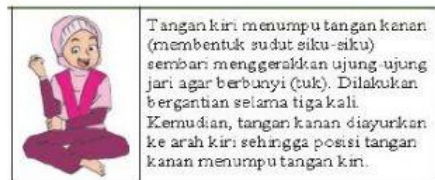


Pola lantai tarian diatas adalah ...

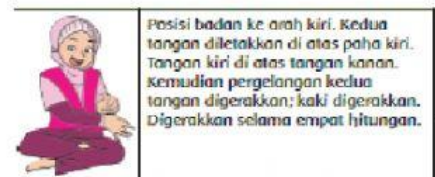
- a. melengkung
- b. oval
- c. melingkar
- d. vertikal

Tariklah garis ke gambar yang tepat !

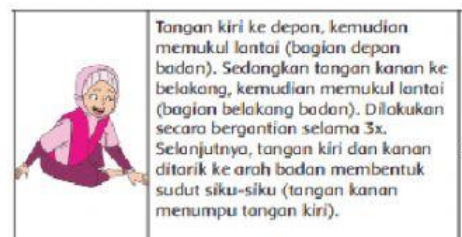
Gerakan 3



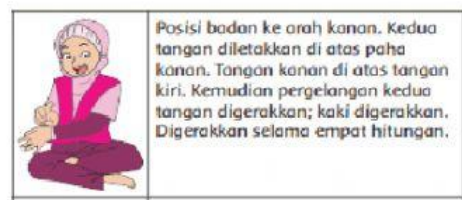
Gerakan 6



Gerakan 1



Gerakan 2



Gerakan 11

