

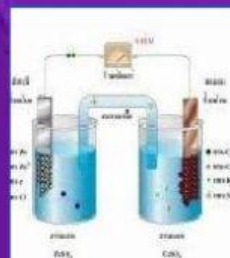
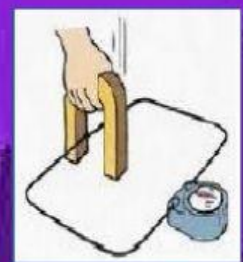
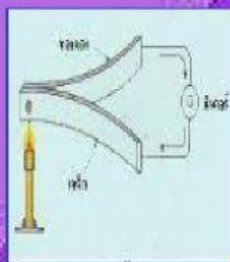
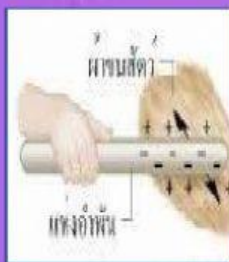
ใบงานที่ 10

การออกแบบและเทคโนโลยี ชั้นมัธยมศึกษาปีที่ 2

1 ให้นักเรียนนำรูปต่อไปนี้ลากไปวางให้ตรงกับวิธีการเกิดขึ้นของไฟฟ้า

การกำเนิดของไฟฟ้า

การเสียดสี	การทำปฏิกิริยาทางเคมี	ความร้อน	แสงสว่าง	แรงกดดัน	สนามแม่เหล็ก



2 ให้นักเรียนนำรูปต่อไปนี้ลากไปวางให้ตรงกับความหมายของรูปภาพ

โปรตอน	อิเล็กตรอน	DC	AC

