

แบบฝึกหัด
เรื่อง สารประกอบไฮโดรคาร์บอน

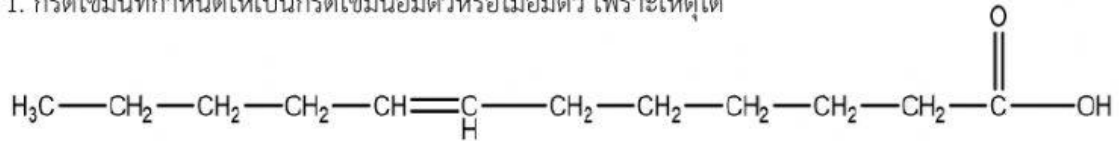
ชื่อ-สกุล

เลขที่

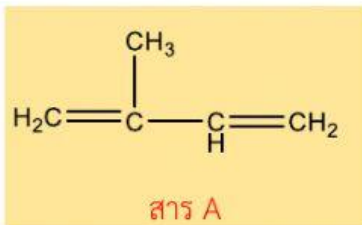
ชั้น

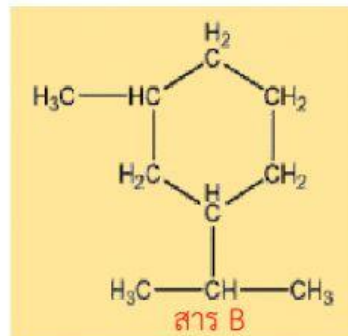


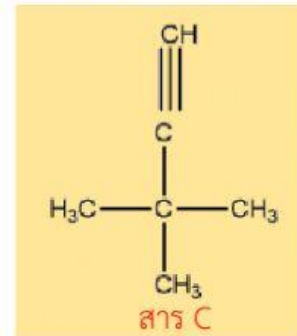
1. กรดไขมันที่กำหนดให้เป็นกรดไขมันอิ่มตัวหรือไม่อิ่มตัว เพราะเหตุใด

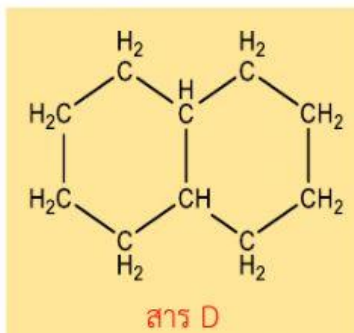


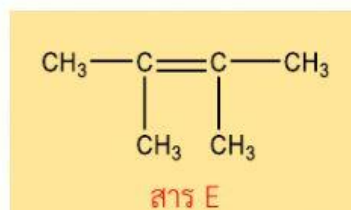
2. จงเลือกคำตอบที่ถูกต้อง ว่าสารที่กำหนดให้ต่อไปนี้เป็นสารประกอบไฮโดรคาร์บอนอิ่มตัวหรือสารประกอบไฮโดรคาร์บอนไม่อิ่มตัว

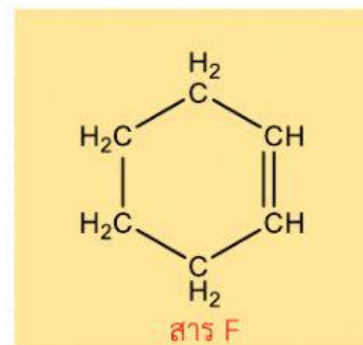




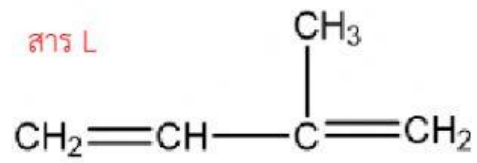








3. ถ้าสารละลายไอโอดีนใช้ในการทดสอบความไม่อิ่มตัวของสารประกอบไฮโดรคาร์บอนโดยสาร L ฟอกจางสีได้



จงเลือกสารที่ไม่ฟอกจางสีไอโอดีนให้ถูกต้อง

