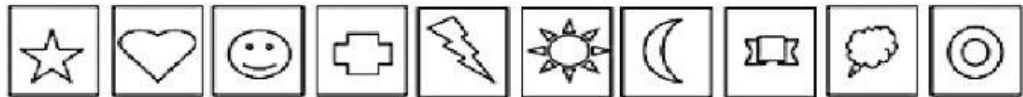


REFORZAMOS LO APRENDIDO




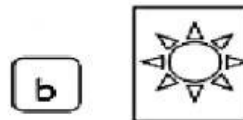
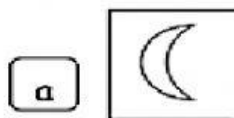
Lee con mucha atención y marca la respuesta

Tatiana ha ordenado sus figuritas en fila. Observa.



Primero, segundo...

Marca la figurita que está en el sexto lugar en la fila.



Jeremy observa el siguiente letrero.

A 9 réstale 4

$$9 - 4 = \square$$

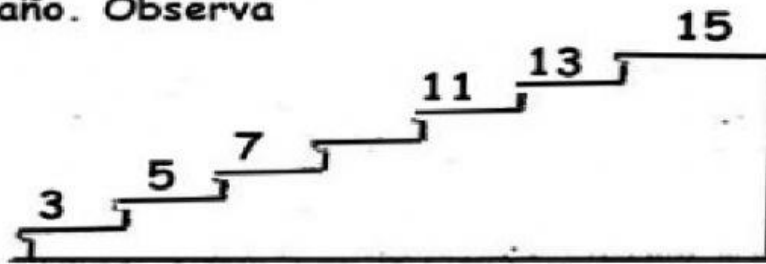
Marca la respuesta de este letrero.

a 13

b 5

c 15

Leonardo quiere subir las escaleras, cada peldaño tiene un número, pero se da cuenta que falta un número en un peldaño. Observa



¿Qué número falta?



☐ a 10

☐ b 9

☐ c 8

Joel tiene 9 carritos y Manuel tiene 6 carritos. ¿Cuántos carritos tienen entre los dos?

Joel



Manuel

☐ a 15

☐ b 13

☐ c 14

Observa y responde: ¿cuántos lápices hay en total?





☐ a. 5

☐ b. 23

☐ c. 32

En el corral las gallinas pusieron huevos:



¿Cuántos huevos pusieron las gallinas en total?

☐ a 13

☐ b 19

☐ c 16

Observa la cantidad de estrellas que hay en cada grupo y marca en cuál de ellos se puede formar 2 decenas:

☐ a.



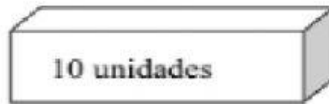


☐ b.



☐ c.



. Luis quiere poner sus manzanas en cajas de 10 unidades cada una. ¿Cuántas cajas necesita Luis?




a. 2 cajas

b. 3 cajas.

c. 1 caja

. Observa las mariposas:



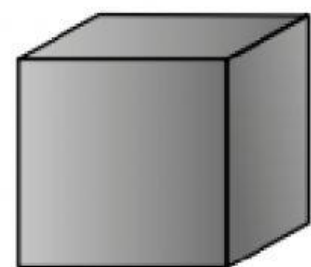
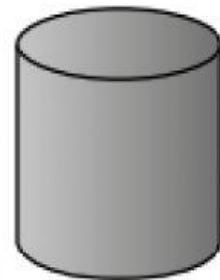
¿Cuántas decenas de mariposas hay?

a. 20 decenas.



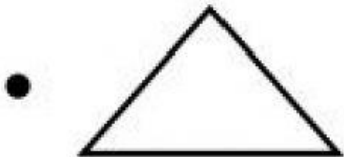
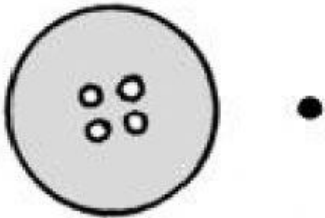
b. 24 decenas

c. 2 decenas.

Une con una línea cada objeto con la figura que se parece



Une con una línea cada objeto con la figura a la que se parece



¿Cuál lápiz es más largo?

a



b




c

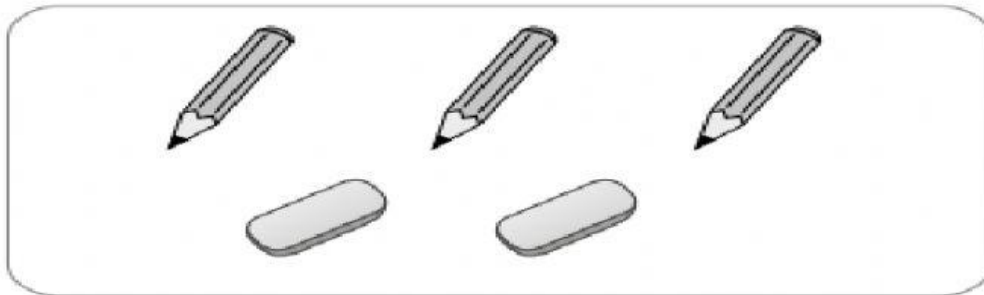


¿Cuál de los grupos tiene más lápices que borradores?

a



b



c

