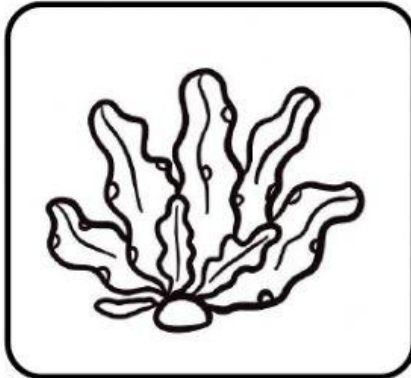



คะแนน



ระบุชื่อพืชที่อาศัยอยู่ที่บริเวณต่างๆให้ถูกต้อง



พืชบก

พืชน้ำ



พืชบกและพืชน้ำ

ต้นกล้วย

สาหร่าย

.....เป็น.....

.....เป็น.....พืชน้ำ.....



พืชบก

พืชน้ำ



พืชบกและพืชน้ำ

บัว

กระบองเพชร

.....เป็น.....

.....เป็น.....พืชบก.....



พืชบก

พืชน้ำ

พืชบกและพืชน้ำ

ต้นไผ่

แหวน

.....เป็น.....

.....เป็น.....

