

EVALUASI

★ ★ ★						



Evaluasi Subtema 2



Kelas III
Tematik 3A
Subtema 2

IDENTITAS PESERTA DIDIK

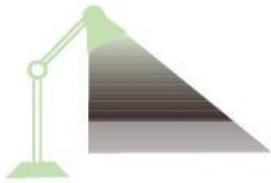
Nama :

Kelas :

Tema/Subtema :

Hari & Tanggal :

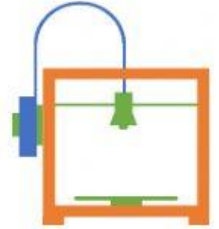







Jawablah pertanyaan-pertanyaan dibawah ini dengan tepat dan benar!

A. Pilihan Ganda

1. Berbuat adil terhadap sesama manusia merupakan pengamalan sila ...
 - a. Pertama
 - b. Kedua
 - c. Ketiga
2. Olahraga dapat menambah ... tubuh.
 - a. Berat
 - b. Kemampuan
 - c. Tinggi
3. Seorang pedagang membeli kain dari pabrik sebanyak 5.372 helai. Kain tersebut berhasil dijual kembali sehingga tersisa 3.021 helai. Jumlah kain yang berhasil dijual adalah ...
 - a. 2.531
 - b. 2.351
 - c. 2.350
4. Menirukan gerakan kupu-kupu terbang termasuk jenis gerakan ...
 - a. Kuat
 - b. Sedang
 - c. Lemah
5. Lambang sila yang mengandung nilai kemanusiaan adalah ...



- a. 
- b. 
- c. 





6. Perhatikan data berikut!

- I. Makan makanan bergizi
- II. Berolahraga dengan teratur
- III. Bermain sepuasnya
- IV. Tidur secukupnya

Faktor yang dapat mendukung pertumbuhan dan perkembangan adalah ...

- a. (i) dan (iii)
- b. (iii) dan (iv)
- c. (i), (ii), dan (iv)



7. Jarak rumah Ida dengan sekolahnya 3.832 meter. Jarak rumah Intan dengan sekolahnya 5.837 meter. Berapakah selisih jarak rumah Ida dan Intan ke sekolah ...

- a. 2019
- b. 2009
- c. 2005



8. Gerak angin badai termasuk gerakan ...

- a. Kuat
- b. Sedang
- c. Lemah

9. Berikut pengamalan sila kedua Pancasila adalah ...

- a. Beribadah dengan rajin
- b. Menghargai perbedaan pendapat
- c. Bermusyawarah mufakat



10. Berikut ini termasuk makanan bergizi adalah ...





a.



b.



c.

11. Angka 8 pada bilangan 8.163 menempati nilai ...

- a. Ribuan
- b. Ratusan
- c. Puluhan



12. Tarian yang berasal dari Jakarta adalah ...

- a. Tari Payung
- b. Tari Yapong
- c. Tari Merak

13. Perhatikan data berikut!

- Berat badan 12 kg, tinggi 70-80 cm
- Dapat merangkak dan berjalan pelan
- Dapat mengucapkan mama atau ibu

Ciri-ciri di atas menunjukkan perkembangan pada tahapan ...

- a. Bayi
- b. Balita
- c. Dewasa





14. Hasil penjumlahan dari $1.445 + 6.626$ adalah ...

- a. 8.071
- b. 8.701
- c. 8.017

15. Tarian berikut ini yang banyak dilakukan dengan gerakan kuat adalah ...

- a. Tari Bondan
- b. Tari Gambyong
- c. Tari Panah



B. Jawablah pertanyaan berikut dengan ini dengan jawaban yang tepat!

1. Sila kedua Pancasila dilambangkan dengan simbol
2. Lambang sila kedua Pancasila ada di bagian perisai burung garuda.
3. Sikap saling menyayangi sesama manusia sesuai dengan sila Pancasila.
4. Lambang bilangan tujuh ribu lima ratus tiga puluh dua adalah
5. Angka 3 pada bilangan 7.373 menempati nilai
6. Pak Agung ingin memberi bantuan buku tulis ke sekolah jalanan sebanyak 6.000 buku. Buku tulis yang dimiliki Pak Agung saat ini hanya 1.356 Buku. Berapakah jumlah buku tulis yang harus dibeli Pak Agung agar jumlahnya menjadi 6.000
7. Agar tubuh tumbuh sehat dan kuat, maka harus makan makanan
8. Berolahraga harus dilakukan secara
9. Dalam sebuah tarian terdapat gerakan dan gerakan
10. Gerakan lemah adalah gerakan yang dilakukan dengan



C. Buatlah kalimat dengan kosakata berikut ini!

1. Balita :
2. Berolahraga :
3. Hobi :
4. Menari :
5. Berhitung :

