
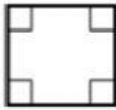

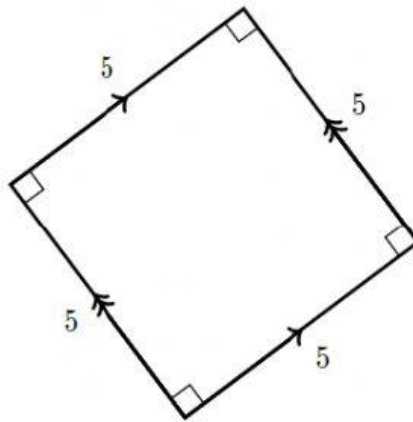


Tipos de cuadriláteros

Todos los rectángulos tienen cuatro ángulos rectos y lados opuestos que son paralelos y de la misma longitud.

¿Cuáles de estos cuadriláteros son rectángulos?

Cuadrilátero	Rectángulo/No rectángulo
	<input type="text" value="v"/>
	<input type="text" value="v"/>
	<input type="text" value="v"/>



Elige todas las respuestas adecuadas:

Paralelogramo

Rombo

Rectángulo

Cuadrado