



UNIDAD EDUCATIVA FISCO MISIONAL "CRISTÓBAL COLÓN"
PRUEBA DE DIAGNOSTICO DE ESTUDIOS SOCIALES
DE QUINTO AÑO DE EDUCACION GENERAL BASICA.
AÑO LECTIVO 2021- 2022

NOMBRE..... GRADO..... PARALELO.....

OBJETIVO: Conocer los avances obtenidos en conocimiento y destrezas correspondiente al cuarto año con la finalidad de valorar, proyectar y nivelar en caso necesario.

INSTRUCCIONES: Lea detenidamente las preguntas antes de responder.

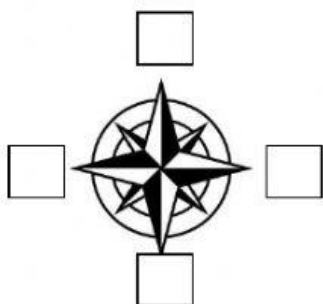
1.-Escriba una (V) si es verdadero o una (F) si es falso a los siguientes interrogantes.

1.1.- La cordillera de los Andes se extiende desde el Carchi hasta el Macará.	
2.- Los mapas representan solo los continentes.	
3.- La brújula es un instrumento inventado por los chinos.	

**4.-Complete los siguientes enunciados:
Las respuestas están en el recuadro.**

O , Colombia , continentes , N , agua , S , animales , E, Perú

En el siguiente gráfico ubique los puntos cardinales:



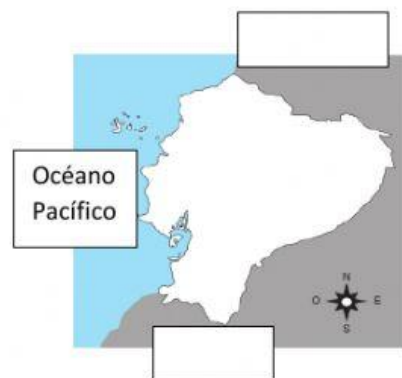
5.-A las grandes extensiones de tierra se les conoce con el nombre de

6.- La Amazonía es una de las reservas más grandes de oxígeno y de

_____ dulce del planeta.

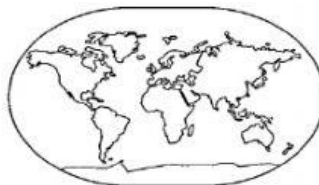
7.-El Ecuador es un país mega diverso porque tiene una gran variedad de plantas y _____

8.- En el siguiente mapa complete el límite del Ecuador.



Seleccione:

9.- ¿Cuál es el globo terráqueo?



10.- En el siguiente mapa indique en donde se encuentra ubicado nuestro país Ecuador.

