

1. Completa

$..... \times 3 = 6$

$2 \times 5 =$

$..... \times 6 = 12$

$2 \times = 0$

$..... \times 1 = 2$

$2 \times 4 =$



$2 \times = 18$


$2 \times 8 =$

$2 \times = 14$

2. Escribe con un número el dato de cada noticia



 Se han fichado quinientos cuarenta y cinco nuevos jugadores.	 Se han recogido quinientos tres perros abandonados.
=====	=====



3. Une con flechas

Rectángulo



Rombo



Cuadrado



4. Resuelve

$$\begin{array}{r} \square \square \\ + 341 \\ \hline 179 \end{array}$$

$$\begin{array}{r} \square \square \square \\ - 37 \square 5 \\ \hline 197 \end{array}$$