




LOS POLÍGONOS

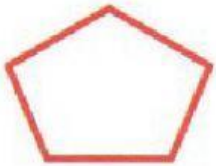
Ejercicio 1. Une cada figura con el grupo al que corresponde.

POLÍGONOS

NO POLÍGONOS



Ejercicio 2. Une cada polígono con su nombre según su número de lados.



TRIÁNGULO

CUADRILÁTERO

PENTÁGONO

HEXÁGONO

