



## ULANGKAJI TOPIK TING4


24 OGOS 2021

Jawab semua soalan.

Namakan & pilih gambar peralatan dibawah ini di petak yang betul.

<b>BIL</b>	<b>GAMBAR</b>	<b>NAMA/ KENYATAAN</b>
1		Nama peralatan ini adalah:
2		Linen ini diletakkan diatas meja sebelum dibentangkan alas meja. Nama linen ini adalah : <div style="border: 1px solid black; width: 100px; height: 30px; margin: 10px auto;"></div>
3		Nama peralatan ini adalah:
4		Peralatan ini digunakan untuk sajian Perancis. Makanan akan disediakan, dimasak, dipotong & dihias di hadapan tetamu. Nama peralatan ini adalah:

		<input type="text"/>
5		Nama peralatan ini adalah:
6		Linen ini di pasang di tepi meja bufet atau meja makan sebagai hiasan meja untuk menambah seri pada ruang makan. Nama linen ini adalah: <input type="text"/>
7		Nama peralatan ini adalah:
8		Linen ini digunakan oleh pramusaji semasa membawa pinggan panas ketika menghidang. Nama linen ini adalah: <input type="text"/>

9		<i>Bishop Head</i>
10		<i>Nama lipatan napkin ini adalah:</i>

