




Escola Municipal Rodolfo Mikel Ghannam

Anápolis; _____ de _____ de 2021

Professora (s):

Estudante: _____ Ano/Turma: 7º “_”



TESTE DE GEOGRAFIA

O sistema de **transportes** é indispensável para a exportação, o abastecimento da população e o acesso a matérias-primas. Os setores de **transportes** e infraestrutura viabilizavam todos os outros setores da economia. As **redes de transporte** são essenciais para a circulação de mercadorias e de pessoas, e o grau de desenvolvimento dos **transportes** pode ser considerado um reflexo do desenvolvimento de um país. Com base a informação ache no caça palavras os meios de transporte usado no Brasil atualmente. (1,0)

MEIOS DE TRANSPORTE

Q	W	E	M	G	H	C	Q	A	S	D
Z	X	C	O	V	B	A	V	I	Ã	O
P	M	E	T	R	Ô	R	B	M	T	R
L	O	I	O	C	A	R	R	O	Ç	A
Z	J	K	C	T	U	O	N	H	T	F
N	A	V	I	O	T	F	G	Z	S	D
A	N	T	C	A	M	I	N	H	Ã	O
W	G	G	L	F	Ô	N	I	B	U	S
S	A	B	E	G	A	D	G	K	I	H
E	D	N	T	R	E	M	T	F	I	N
D	A	M	A	G	K	I	U	H	G	F

Que esperto!!! As palavras são: **MOTOCILCETA, JANGADA, CARRO, METRÔ, AVIÃO, CARROÇA, NAVIO, CAMINHÃO, ÔNIBUS E TREM**

2) Assinale **somente uma alternativa correta** sobre a distribuição de redes de transporte e comunicação influência a distribuição de atividade econômica. (0,5)

a) () As redes de transporte e comunicação têm a função integrada de espaço geográfico. De transporte permitem a circulação de pessoas e de mercadoria. As redes de comunicação permitem a troca de informação que nos permite realizar decisões importantes.

b) () As redes de transporte permitem a troca de informação para realizar decisões importantes e comunicação têm a função de transporte permitem a circulação de pessoas e de mercadoria.

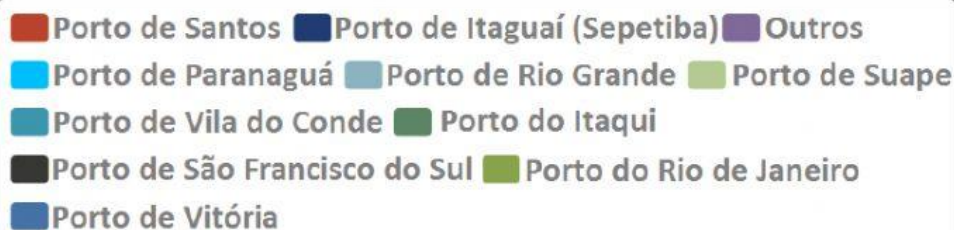
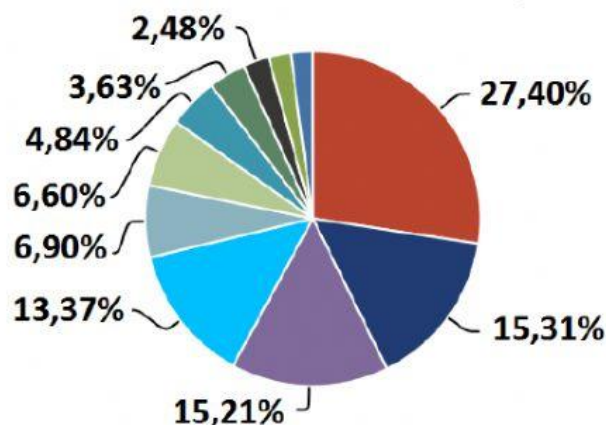
c) () As redes de comunicação são para deixar as pessoas **menos** integradas as informações e de transporte só pra **melhorar a economia**.

d) () As redes de comunicação e transporte não são integradas funcionam independentes

3) Analise o gráfico abaixo e responda: (1,5)

Representação da Movimentação

Movimentação Total - Imp/Exp
Janeiro/Fevereiro (2017)



Fonte: ANTAQ

a) Aponte e escreva os três portos de **maior** movimentação no Brasil

b) Aponte e escreva os três portos de **menor** movimentação no Brasil

c) Aponte e escreva os três portos de **maior** movimentação no Brasil e defina de qual (UF) ou seja **ESTADO** o porto pertence.

VOCÊ É CAPAZ E INTELIGENTE!!! BOA PROVA