



Evaluación Matemáticas

Unidades y decenas

Nombre:	Curso:
Profesora: Marcela Cabezas Catepillán	Fecha:

1. Cuenta y escribe cuantas unidades y decenas hay:

		<table border="1"><tr><td>D</td><td>U</td></tr><tr><td></td><td></td></tr></table>	D	U		
D	U					
		<table border="1"><tr><td>D</td><td>U</td></tr><tr><td></td><td></td></tr></table>	D	U		
D	U					
		<table border="1"><tr><td>D</td><td>U</td></tr><tr><td></td><td></td></tr></table>	D	U		
D	U					
		<table border="1"><tr><td>D</td><td>U</td></tr><tr><td></td><td></td></tr></table>	D	U		
D	U					
		<table border="1"><tr><td>D</td><td>U</td></tr><tr><td></td><td></td></tr></table>	D	U		
D	U					


2. Cuenta los cubitos y registra cuantas unidades y decenas hay:

<table border="1"><tr><td>D</td><td>U</td></tr><tr><td></td><td></td></tr></table>	D	U			<table border="1"><tr><td>D</td><td>U</td></tr><tr><td></td><td></td></tr></table>	D	U			<table border="1"><tr><td>D</td><td>U</td></tr><tr><td></td><td></td></tr></table>	D	U		
D	U													
D	U													
D	U													
<table border="1"><tr><td>D</td><td>U</td></tr><tr><td></td><td></td></tr></table>	D	U			<table border="1"><tr><td>D</td><td>U</td></tr><tr><td></td><td></td></tr></table>	D	U			<table border="1"><tr><td>D</td><td>U</td></tr><tr><td></td><td></td></tr></table>	D	U		
D	U													
D	U													
D	U													




3. Representa las unidades y decenas solicitadas pinchando los cuadraditos:


a. 1 D y 7 U




b. 1 D y 4 U




c. 1 D y 2 U




d. 2 D



e. 1 D y 8 U



f. 1 D y 5 U



4. Une con una línea las unidades y decenas representadas en cubitos:

a.



2 D

b.



1 D y 9 U

c.



1 D y 1 U


d.




1 D y 5 U




5. Cuenta las decenas y unidades y arrastra el número que le corresponde:




20




10



14



15



19



18