

## Bài 1: Điền số

$6 \times \square = 6 : \square$

$\square \times 6 = \square : 6$

$6 \times 7 < 6 \times \square < 6 \times 9$

$36 : 6 + 6 < 6 : \square + 12 < 14$

$45 - 15 < \square \times 6 < 12 + 30$

$36 : 6 < \square - 5 < 48 : 6$

### 2. Tìm x:

a)  $24 : x = 4$ . Vậy x là:.....

A. 5

B. 6

C. 7

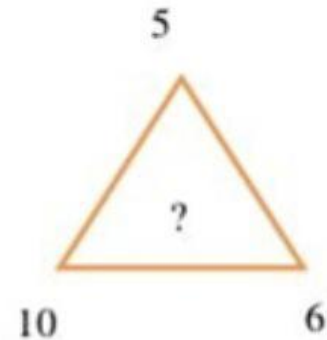
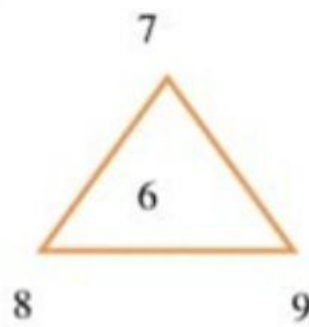
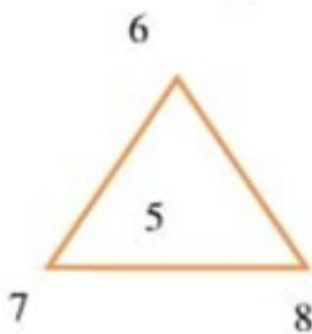
b)  $32 : x = 4$ . Vậy x là:.....

A. 4

B. 5

C. 8

### 3. Điền số thích hợp vào ô trống



### Bài 3. Điền số thích hợp vào ô trống:

$6 \times \square + 123 = 165$

$6 : \square > 18 : 6$

$6 \times \square + 36 : \square = 60$

$6 \times \square < 36 : 6$

$\square \times 7 - 4 = 38$

$\square \times 6 < 6 \times 1$

### Bài 4. Điền dấu ">"; "<"; "=" vào ô trống:

$6 \times 3 + 6 \square 6 \times 6$

$36 : 6 + 6 \square 54 : 6 + 3$

$7 + 42 : 6 \square 22 - 18 : 6$

$3 \times 8 - 6 \square 6 \times 4 + 3$

$18 + 48 : 6 \square 24 : 6 + 18$

$8 \times 6 + 6 \square 6 \times 7 - 13$