



Nome: _____

Data: _____

Oficina de Matemática - Year 4

Helena, Júlia, Bia e Larissa lançaram um clube de babás no bairro. Para dividir o faturamento, elas decidiram basear os cálculos de acordo com o tempo que trabalharam. Ajude - as á escrever o horário em que cada uma começou e terminou, bem como quanto tempo elas trabalharam.

Helena

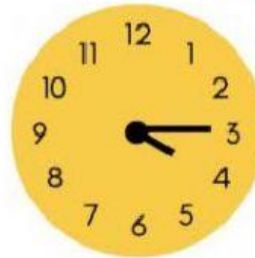


Início: _____

Fim: _____

Tempo total trabalhado: _____

Júlia


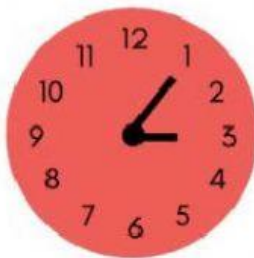


Início: _____

Fim: _____

Tempo total trabalhado: _____

Bia

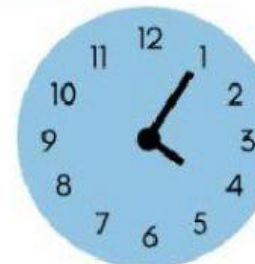


Início: _____

Fim: _____

Tempo total trabalhado: _____

Larissa



Início: _____

Fim: _____

Tempo total trabalhado: _____