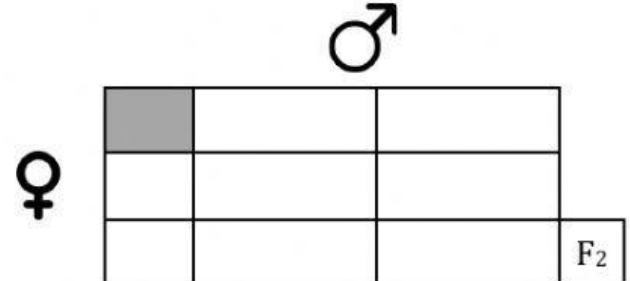
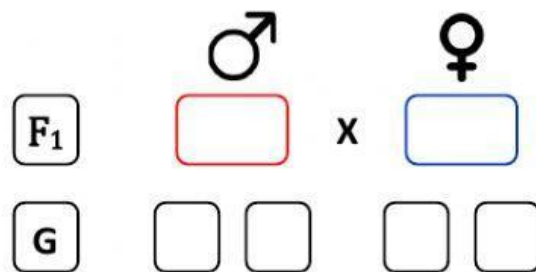
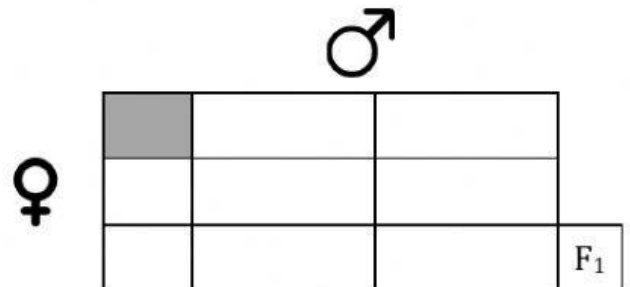
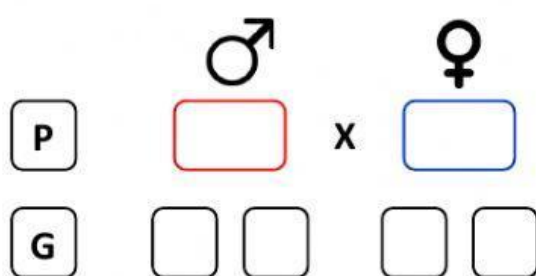
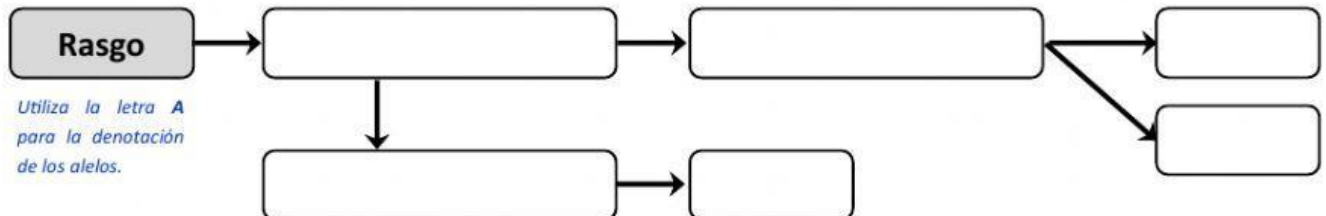


Año escolar	Área curricular	Grado	Unidad	Sesión
2021	Ciencia y Tecnología	5º	03	2 – 3

Ejercicios de leyes de Mendel

Ejercicio 6: En el guisante el tallo alto es dominante sobre el tallo enano. ¿Cuál será el aspecto de la descendencia del cruce entre una planta de tallo alto y otra de tallo enano, sabiendo que son razas puras? ¿Qué aspecto presentarán las plantas que resulten de la autofecundación de una planta descendiente de las cruzadas anteriormente?



Respuestas	
Aspecto o fenotipo de los descendientes producto de la autofecundación de los individuos de la F ₁	Homocigote dominante
	Homocigote recesivo
	Heterocigote