


Nombre:

N°

Fecha:

4to grado:

1- Marco con un  la respuesta correcta a cada enunciado que se te presenta.

- Los ángulos se clasifican en

Isósceles

Agudo

Perigonal

Entrante

Obtuso

Recto

Llano

Circulo

- Nombre del ángulo que mide 42°

Agudo

Llano

Recto

- El ángulo perigonal mide exactamente

180°

85°

360°

- Ángulo que forma la siguiente imagen.

Llano

Recto

Obtuso

- 160° es un ángulo:

Agudo

Entrante

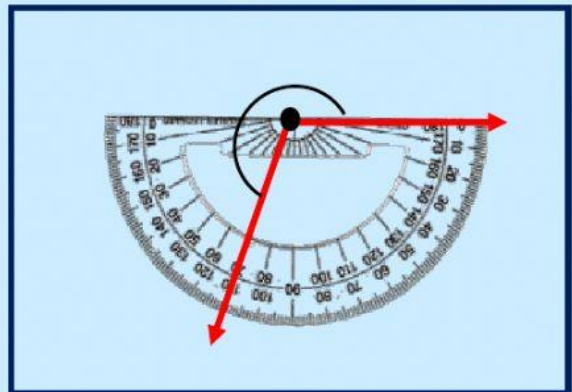
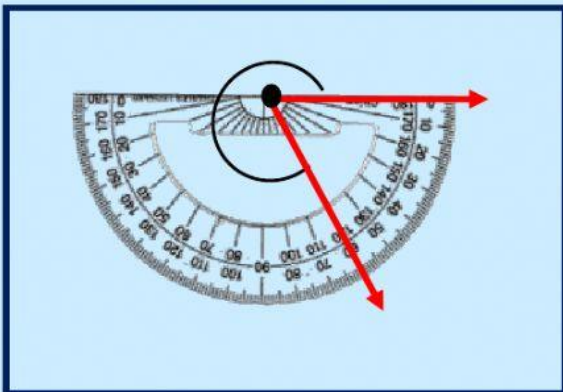
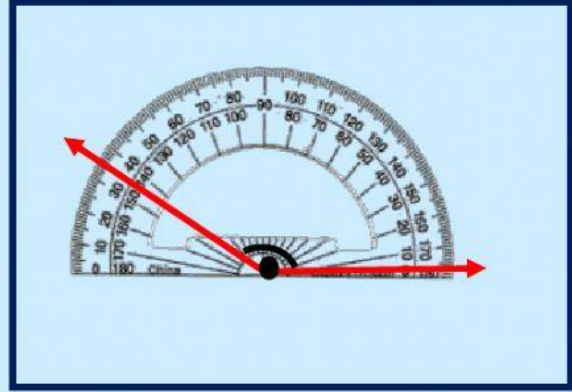
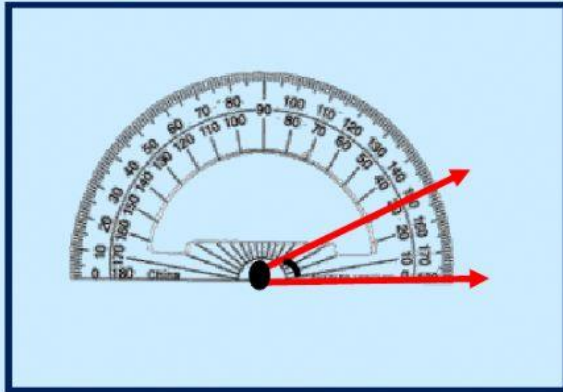
Perigonal



2- Observa las siguientes imágenes y selecciona según la forma a qué ángulo corresponde.



3- Haciendo uso del transportador determina la medida de cada ángulo.



4. Observa los siguientes ángulos y selecciono según su forma el ángulo correcto.

