

### CRITERIOS

Estimado estudiante. La siguiente prueba se basa en las competencias vistas en clase a partir de su trabajo personal realizado en las mismas. Para ello tenga en cuenta:

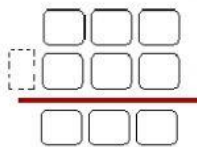
- Se evalúa las competencias de Razonamiento y Argumentación.
- Tener abierto tu correo institucional.
- Tener cámara y micrófono encendidos durante la prueba.
- Al finalizar revisa muy bien toda la prueba; luego da click en "TERMINADO".
- Toma un "Pantallazo o foto del envío" y guárdalo en tu computador.

1. Observa y escribe la cifra numérica en unidades



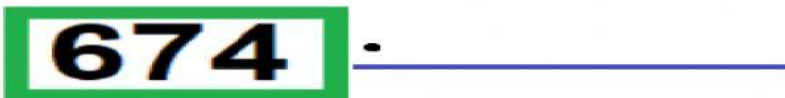
Son: \_\_\_\_\_

2. Ayuda a este par de amigos a solucionar el problema.

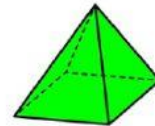
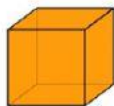


Rta: entre los dos tienen \_\_\_\_\_ globos.

3. ¿Cuál es el valor posicional del número **7** en la siguiente cifra numérica?



4. Observa, selecciona y arrastra la imagen según corresponda.



**FIGURAS PLANAS**

**CUERPOS GEOMÉTRICOS**

- 5.

**Realiza la operación y selecciona la respuesta correcta.**

