

Estaciones del año


1.- Une con una línea la imagen con la estación del año que le corresponde y colorea cada una:



Verano



Otoño



Invierno




Primavera


2.- Completa las siguientes frases con la palabra correspondiente:



El _____ es una estación del año, en donde la temperatura ambiental es más baja, en comparación a las otras estaciones.



El _____ es una estación del año, en donde la temperatura ambiental es más alta, en comparación a las otras estaciones.



El _____ es una estación del año, en donde la temperatura ambiental es baja y los árboles comienzan a perder sus hojas.



La _____ es una estación del año, en donde la temperatura ambiental aumenta y los árboles comienzan a florecer.

3.- Responde las siguientes preguntas:

a) ¿En qué estación del año nos encontramos en este momento?

b) ¿Cuál es el nombre de las estaciones del año?
