

ACTIVIDAD SEMANA 2 UNIDAD 4

Nombre:

Curso:

IMPERIOS ANTIGUOS DE MEDIO ORIENTE Y EGIPTO

1. Ingrese al siguiente link <https://www.cerebriti.com/juegos-de-historia/mesopotamia> y conteste las siguientes preguntas:
2. Escriba los nombres de los pueblos que dominaron la región de Mesopotamia

```
graph TD; A[ ] --> B[ ]; B --> C[ ]; C --> D[ ]; D --> E[ ]; E --> F[ ]; F --> G[ ]
```

3. Una con líneas los gráficos con los aportes más importantes se Mesopotamia



Cuneiforme, hecha con incisiones en forma de cuñas sobre tablillas de arcilla. En un inicio se usó en tareas administrativas y comerciales

Fueron plasmadas en la estela de Hammurabi, es el primer código legal de la historia



Aplicada al carro de transporte o combate



Se utilizó un sistema sexagesimal, basado en el número 60. El círculo se divide en 360 grados, la hora en 60 minutos y el minuto en 60 segundos



Elaboraron un calendario anual relacionado con la religión


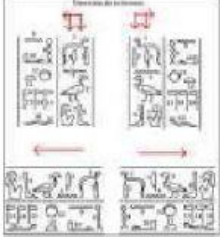


Acoplaban un recipiente con semillas que descendían por un canutillo hasta el extremo inferior, para facilitar la siembra

4. Relaciona cada grupo de la sociedad mesopotámica con su trabajo:

nobles	cultivan la tierra
sacerdotes	hacían el trabajo más duro
funcionarios	fabricaban cosas
artesanos	controlaban al pueblo
comerciantes	Eran dueños de la tierra
campesinos	cuidaban los templos
esclavos	Vendían productos

5. ¿A qué tipo de escritura pertenecen estas imágenes y que civilización la usaba?


	

Jeroglíficos	cuneiforme
Mesopotámica	Egipcia

6. Contesta V o F

- La Civilización mesopotámica nació a orillas del río Nilo
- La Civilización mesopotámica inventó la escritura
- En la civilización egipcia el reino estaba gobernado por un faraón
- Los jeroglíficos son signos y dibujos que representan palabras
- Los mesopotámicos escribían en papiros
- Los egipcios escribían en tablillas de barro.

7. Une can líneas según corresponda pareja:



Templo e Egipto	tumba faraones	Taller d papiros	templo en Mesopotamia	Dios egipcio
-----------------	----------------	------------------	-----------------------	--------------

8. Completa la pirámide de la sociedad egipcia



Esclavos	Artesanos Y comerciantes	Funcionarios / Escribas	Sacerdotes
Soldados	Faraón	Campesinos	