

**ENSINO FUNDAMENTAL ANOS INICIAIS**

UNIDADE ESCOLAR:

PROFESSOR (A):

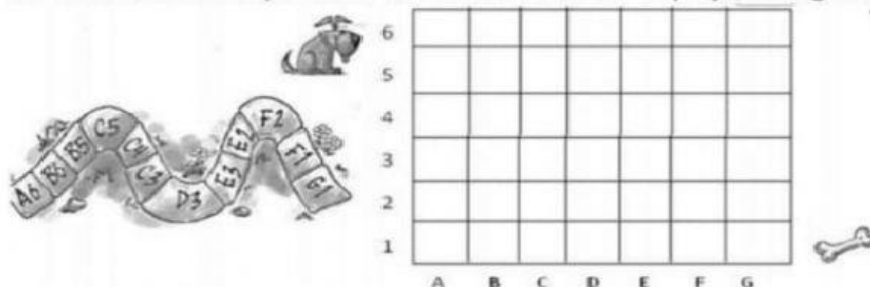
TURMA:

ALUNO (A):

DATA:

## APOSTILA COMPLEMENTAR 02 páginas 22,23e 25

13- Pinte o caminho que leva o cão ao seu osso. Não esqueça, de seguir as dicas abaixo.

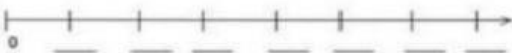


14- Siga as dicas e complete as sequências.

a) Intervalo de 5:




b) Intervalo de 9:



c) Intervalo de 13:



15- Veja as figuras abaixo e escreva o nome de objetos, que tem o mesmo formato que elas.




16- Leia a informação abaixo.

O Tangram é um quebra-cabeça de origem chinesa, composto por sete peças a partir de um quadrado. Observe.




• Quantos triângulos há no Tangram? \_\_\_\_\_

17- Agora, usando as informações acima, desenhe um Tangram. Seja criativo!



18- Vamos praticar um pouco de multiplicação?

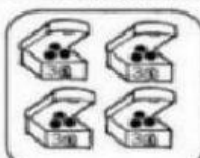
★ 3 caixinhas tem: Complete:



$4 + 4 + 4 = ?$   
 3 vezes \_\_\_\_ são \_\_\_\_  


$3 \times 4 =$

★ 4 caixinhas tem:



$3 + 3 + 3 + 3 = ?$   
 4 vezes \_\_\_\_ são \_\_\_\_  

$4 \times 3 =$



**Multiplicação** de numerais formados por dois ou mais algarismos significativos (sem reserva).

C	D	U
(x)	2	2
		2

C	D	U
(x)	3	3
	3	3

C	D	U
(x)	2	1
	0	4

C	D	U
(x)	1	1
	0	5

C	D	U
(x)	2	1
		6

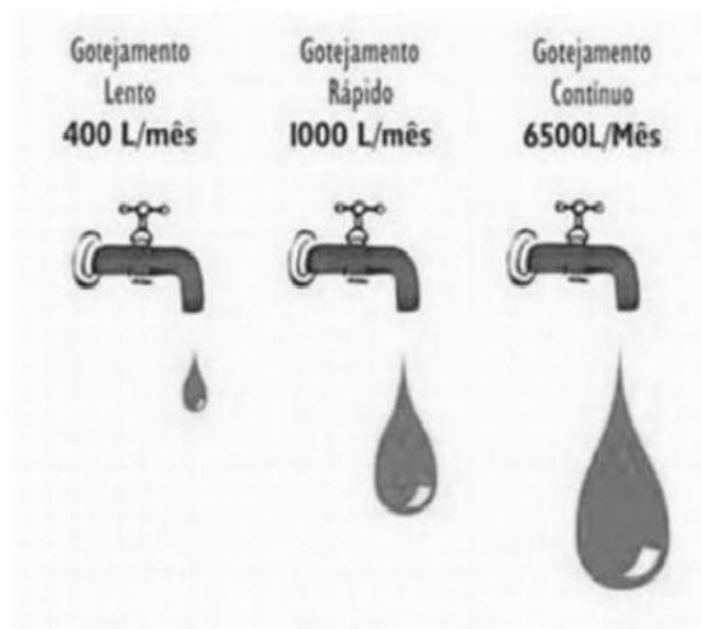
19- Magali foi à feira com a sua mãe. Veja, o que ela colocou no carrinho :

2 dúzias de banana, 1 dúzia e meia de laranja, 1 dezena de maçãs e 5 abacates.

- Qual foi o total de frutas que ela colocou no carrinho?

Resposta \_\_\_\_\_

ECONOMIZAR É PRECISO!



20- Como mostra na imagem acima, uma torneira com defeito significa desperdício de água. Num gotejamento contínuo, são desperdiçados **6500** litros de água por mês.

- O número 6500 é composto de quantos algarismos? \_\_\_\_\_
- Nesse número, que algarismo ocupa a ordem das centenas? \_\_\_\_\_
- Decomponha esse número. \_\_\_\_\_