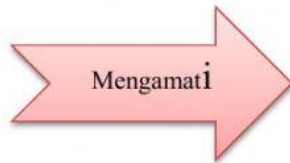


LKPD 1

Matahari memiliki peran yang besar dalam kehidupan karena merupakan sumber energi terbesar di bumi. Panas matahari berpengaruh terhadap aktivitas manusia dan makhluk hidup lainnya di bumi.
Amatilah gambar berikut.



Nama Siswa :	
No Absen :	

1. Apa yang diceritakan gambar tersebut?

2. Berdasarkan gambar, dapatkan kamu menyebutkan apa saja manfaat matahari bagi keluarga tersebut? Mengapa demikian? Kemukakan alasanmu!

3. Apakah kamu dapat menyebutkan contoh kegiatan lain tentang manfaat matahari bagi kehidupan kita sehari-hari?

LKPD 2

Kisah Ali Si Biji Energi

Aku Ali Si Biji Energi. Aku menanam biji-biji energi di sebuah ladang yang luas di peternakanku. Saat matahari bersinar ada energi pada cahaya matahari. Cahaya matahari membantu biji-bijiku tumbuh menjadi tanaman-tanaman yang tinggi.

Tanaman-tanamanku menyimpan energi itu di dalam akar, batang, daun, dan butiran biji yang baru. Dengan segera, aku akan tumbuh tinggi dengan daun-daun yang lebar dan biji-biji yang baru.

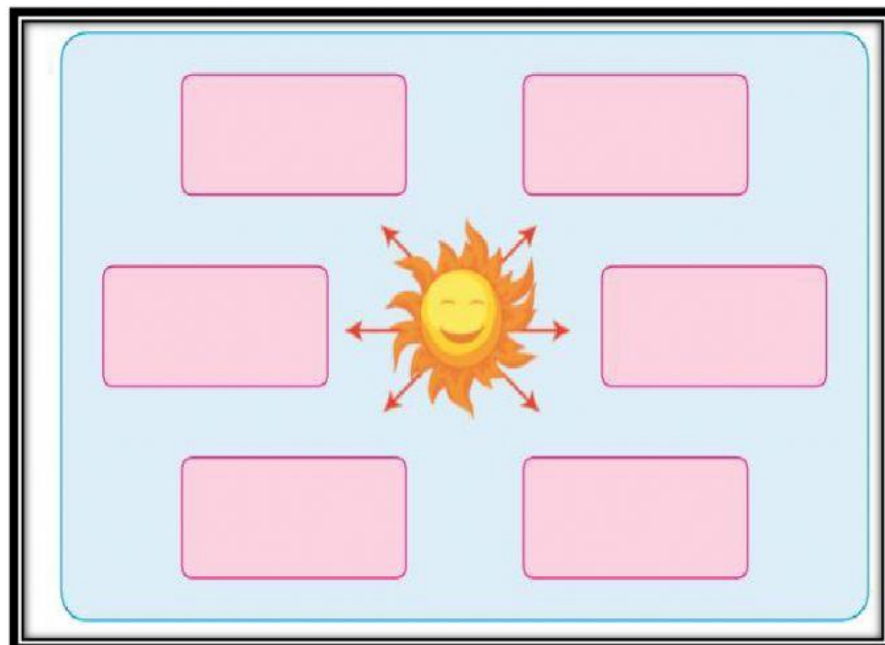
Kamu bisa memasak dan memakan aku supaya kamu memiliki energi. Energi itu akan membantumu tumbuh, bergerak, dan berpikir. Aku juga memberi makan hewan-hewan ternak dengan beberapa bagian dari tubuhku sehingga mereka tumbuh besar dan sehat

NAMA :

No Absen :

KELAS :

Peta pikiran gagasan pokok dan gagasan pendukung



LKPD 3

NAMA	
NO ABSEN	
KELAS	

Setelah memahami materi sumber daya alam, jawablah pertanyaan berikut!

1. Berdasarkan teks, berikanlah masing-masing 3 contoh sumber daya alam yang dapat diperbaharui dan yang tidak dapat diperbaharui?

2. Berilah 3 contoh lain (di luar teks) sumber daya alam yang dapat diperbaharui dan tidak dapat diperbaharui?

3. Berikanlah contoh kegiatan ekonomi yang memanfaatkan kedua jenis sumber daya alam tersebut.

4. Tulislah pendapatmu tentang kegiatan ekonomi tersebut. Apa saja dampaknya bagi kelastarian sumber daya alam tersebut? Apa yang harus dilakukan agar sumber daya alam tetap lestari?


LKPD 4


Nama	:	
No Absen	:	
Kelas	:	

Beni ingin membuktikan panas bahwa matahari sebagai sumber energi yang penting untuk kelangsungan makhluk hidup. Ayo kita bantu Beni untuk membuktikannya! Lakukan percobaan ini di luar kelas!

1. Basahi 2 helai sapu tangan, 2 lembar tisu, 2 lembar kertas.
2. Jemurlah sehelai sapu tangan, selembar tisu, dan selembar kertas di tempat panas sedangkan sisanya letakkan di tempat teduh.
3. Amati dan tuliskan perubahan yang terjadi pada benda-benda tersebut setelah 15 menit, 30 menit, dan 60 menit!

Tabel Pengamatan

	15 menit	30 menit	60 menit
Tisu			
Kertas			
Sapu tangan			

	15menit	30 menit	60 menit
Tisu			
Kertas			
Sapu tangan			

LKPD 5

NAMA	→	
NO ABSEN	→	
KELAS	→	

LAPORAN KEGIATAN PENGAMATAN	
Nama Percobaan :	
Tujuan Percobaan :	
Alat-alat :	
Langkah-langkah :	
Kesimpulan :	