

LEMBAR KERJA PESERTA DIDIK (LKPD)

Tema 2 : Kegemaranku

Subtema 1 : Gemar Berolahraga

Pembelajaran : 5

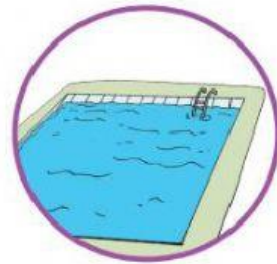
Nama Siswa	:	
Nomor Absen	:	

KELAS 1

SD N NGALANG II

Pasangkanlah gambar anak dengan olahraga kegemarannya.

Pasangkan sesuai dengan teks Olahraga Kegemaran!



Lani



Edo



Beni dan Udin




Siti




Dayu

Selesaikan soal cerita di bawah ini dengan tepat!

1. Lani diberi tugas merapikan bola. Mari bantu Lani menghitung bola basket.



2. Dayu mengoleksi kaca mata renang sejak TK. Mari bantu Dayu menghitung kaca mata renangnya.



3. Siti dan kawan-kawan akan bermain simpai. Siti memastikan jumlah simpai cukup. Bantu Siti menghitung simpai-simpai untuk temannya.



Tariklah kotak jawaban dibawah pada jawaban yang tepat !

$$1 + 6 = 7$$

$$8 + 2 = 10$$

$$7 - 2 = 9$$