

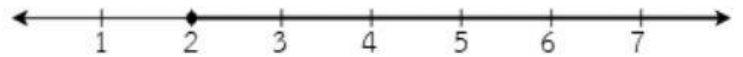
ชื่อ.....ชั้น.....เลขที่.....



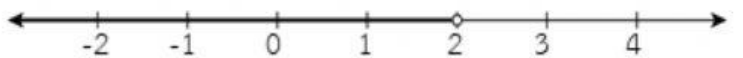
จงโยงเส้นจับคู่สมการต่อไปนี้ตรงกับกราฟใด



$$x < 2$$



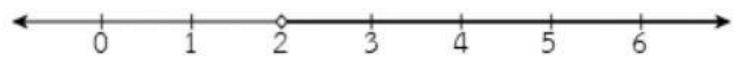
$$x > 2$$



$$x \geq 2$$



$$x \leq 2$$



จงหาคำตอบของสมการต่อไปนี้



$$3x - 2 < 10$$



$$-4x + 10 \leq 30$$



$$5(x - 3) \geq 20$$



$$5x - 2 > 4x + 3$$

