







1. ખાલી જગ્યાઓ પૂરો :

- (1) મેપા મુન્ડી ..... ભાષાનો શબ્દ છે.
- (2) નકશાનાં મુખ્ય ..... અંગો છે.
- (3) સાંસ્કૃતિક નકશામાં ..... વિગતો દર્શાવેલ હોય છે.

2. નીચે 'અ' વિભાગની વિગતો સામે 'બ' વિભાગની વિગતોને જોડો :

- | અ  | બ                      |
|--|------------------------|
| (1)   | (a) પોસ્ટઓફિસ          |
| (2) PO   | (b) આંતરરાષ્ટ્રીય સીમા |
| (3)   | (c) નદી                |
| (4)   | (d) પ્રમાણમાપ          |
| (5)  | (e) ઉત્તર દિશા         |
|  | (f) પોલીસ-સ્ટેશન       |

સા.વિ.ધોરણ 6 એકમ 12  
શર્મા હિરેન કુમાર  
પ્રા શાળા વાવડી, ખેડા  
9574566503

3. નીચેનાં વિધાનો પૈકી ખરાની સામે (✓)ની અને ખોટા સામે (✗)ની નિશાન કરો :

- (1) મહાસાગર સાંસ્કૃતિક નકશામાં દર્શાવેલ હોય છે.
- (2) નકશામાં વનસ્પતિના પ્રદેશ લીલા રંગથી દર્શાવેલ હોય છે.
- (3) ભારત પૃથ્વી પર ઉત્તર-પશ્ચિમ ગોળાર્ધમાં આવેલ છે.
- (4) જુદા-જુદા ખંડ દર્શાવતો નકશો મોટા માપનો નકશો છે.

4. એક-બે વાક્યમાં ઉત્તર આપો :

- (1) હેતુ આધારિત નકશાના પ્રકાર લખો.
- (2) રૂઢ સંજ્ઞા એટલે શું ?
- (3) કેન્દ્રશાસિત પ્રદેશ કોને કહેવાય ?

5. ટૂંકમાં ઉત્તર આપો :

- (1) પ્રાકૃતિક અને સાંસ્કૃતિક નકશા વચ્ચેના તફાવત જણાવો.
- (2) માપના આધારે નકશાના પ્રકાર જણાવી નાના માપના નકશાનાં બે ઉદાહરણો લખો.
- (3) નકશાના મુખ્ય અંગ જણાવી પ્રમાણમાપ વિશે લખો.
- (4) નકશાના આધારે ભારતના સ્થાન વિશે ટૂંકમાં જણાવો.

83/133

