

Operasi bilangan bulat

Kalau ada soal, dengan salah angka ada yang negative, Gak perlu bingung ya...

Lihat tips berikut 😊

$$25 - 105 = \dots$$

$$\textcircled{25} - \textcircled{105} = \dots$$

Kalau seperti ini, anggap yang negative adalah hutang
Anggap yang positif adalah uang

Langkah 1

Kita baca, **UANG 25** dengan **HUTANG 105**

banyak uang atau hutang??

Jawab: Banyak hutang

Kalau banyak hutang sudah pasti jawabannya **NEGATIF**

Langkah 2

(Anggap tidak ada tanda negatif) sekarang kita kurangkan angka terbesar **(105)** dengan angka terkecil **(25)**

$$105 - 25 = 80$$

Langkah 3

Jadi hasil dari $25 - 105 = -80$

Perhatikan contoh soal berikut:

➤ $50 + 210 =$



Langsung saja jumlahkan!
Hasilnya 260

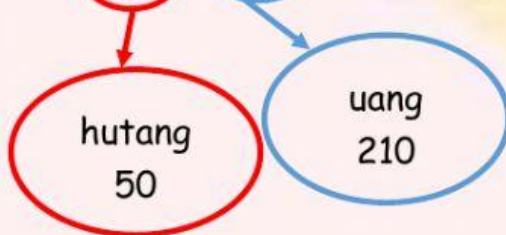
➤ $210 - 50 =$



Langsung saja kurangkan!
Hasilnya 160

➤ $-50 + 210 = \dots$

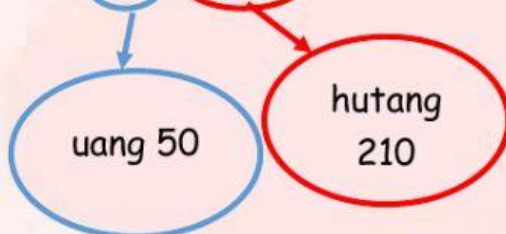
$-50 + 210$



Banyak uang.
Hasilnya 160

$50 - 210 = \dots$

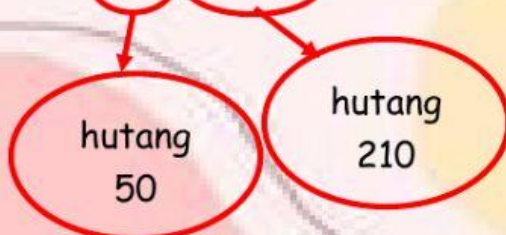
➤ $50 - 210$



Banyak hutang.
Hasilnya -160

$-50 - 210 = \dots$

➤ $-50 - 210$



Banyak hutang.
Hasilnya -260

Silahkan Di coba ya...

Langsung diisi jawabannya di dalam kotak

$$-200 + 10 =$$

$$- 250 - 50 =$$

$$115 + 10 =$$

$$35 - 50 =$$

$$-55 + 200 =$$

$$200 - 23 =$$

$$-200 + (-225) =$$

$$100 - (-215) =$$



Spongebob mempunyai hutang pada Tuan Crab sebesar Rp700.000,00.

Karena kawan spongebob patrick sedang sakit, Ia terpaksa meminjam uang lagi pada Tuan Crab sebesar Rp500.000,00.



Tentukan berapa hutang Spongebob seluruhnya kepada Tuan Crab!!



JAWABAN

Seorang turis di Selat Sunda melihat seekor ikan lumba-lumba meloncat sampai 3 m di atas permukaan laut.



Kemudian ikan tersebut kembali ke laut menyelam sampai 11 m di bawah permukaan laut.

Tentukan selisih ketinggian meloncat dan kedalaman menyelam ikan lumba-tersebut

JAWABAN