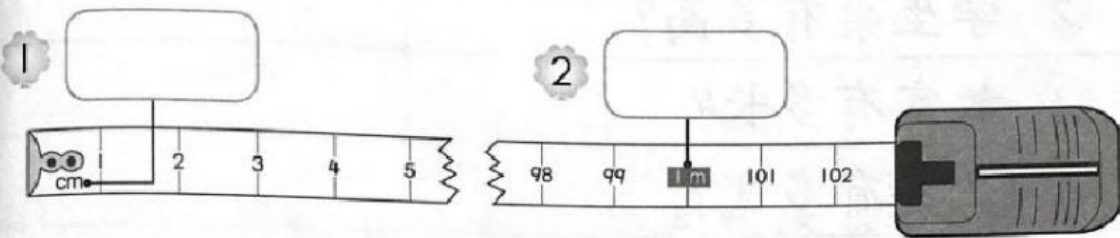
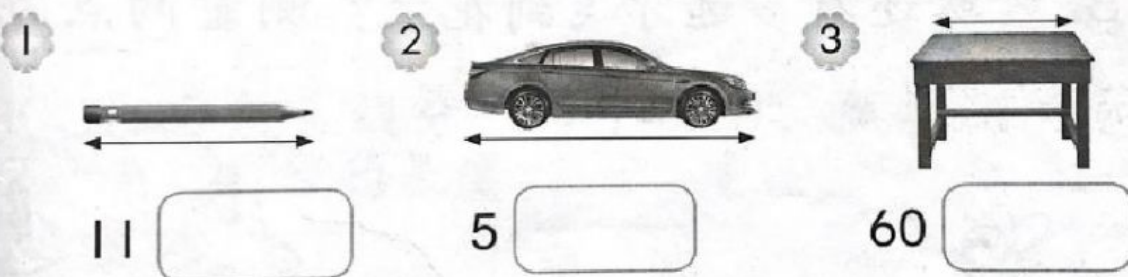


A 哪个是米，哪个是厘米？写一写。



B 写出合理的长度单位 (cm 或 m)。

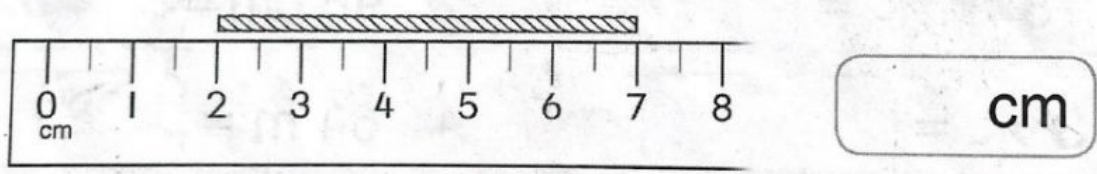


C 写出长度。

例 7 厘米 = 7 cm      9 m = 9 米

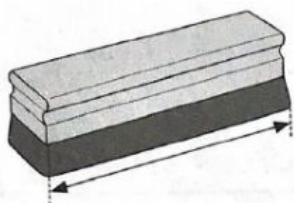
- 1 18 厘米 =
- 2 96 cm =
- 3 3 米 =
- 4 64 m =

C 看图写出毛线的长度。



估一估，选择正确的答案。


1



少于 1 m

多于 1 m

2



少于 1 m

多于 1 m