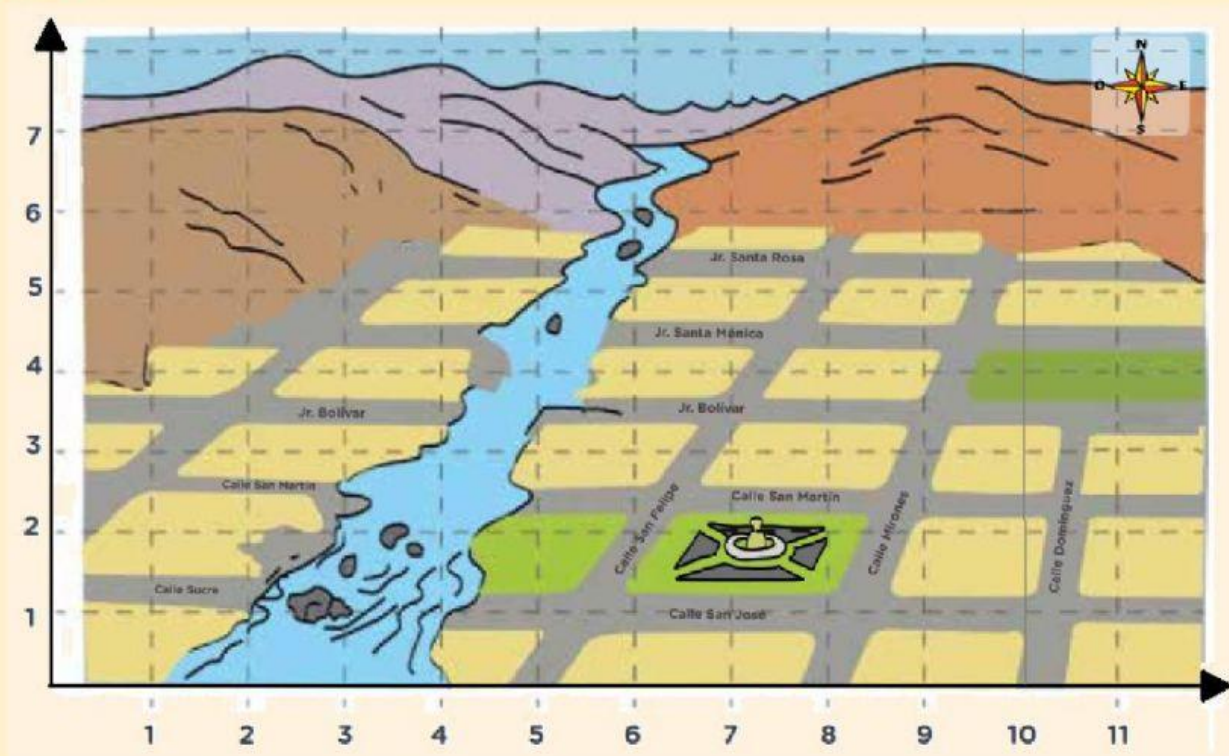


COORDENADAS DENTRO DE UN PLANO CARTESIANO





















A continuación, tienes la oportunidad de reorganizar a la población para mitigar los riesgos que ocasiona el huaico y vivir mejor. De esta manera, ayudarás a los Quispe, Rodríguez, Sulca, Pilco y otras familias a no poner en riesgo sus vidas y no perjudicar el procesamiento del chuño ni el cultivo de fresas, actividades a las cuales se dedican en su comunidad.

Observa:



¿Dónde ubicarías las casas, la iglesia, la escuela, los andenes, el estadio? Ubícalo en el plano cartesiano usando las letras que están en las figuras.

Escribe las coordenadas donde ubicaste las viviendas.

 A	 B	 C	 D	 E
 F	 G	 H	 I	 J
 K	 L	 M	 N	 O
 P	 Q	 R	 S	 T

Explica por qué realizaste así tu propuesta de reorganización.