



Asignatura: ESTADÍSTICA

Grado: PRIMERO

NOTA

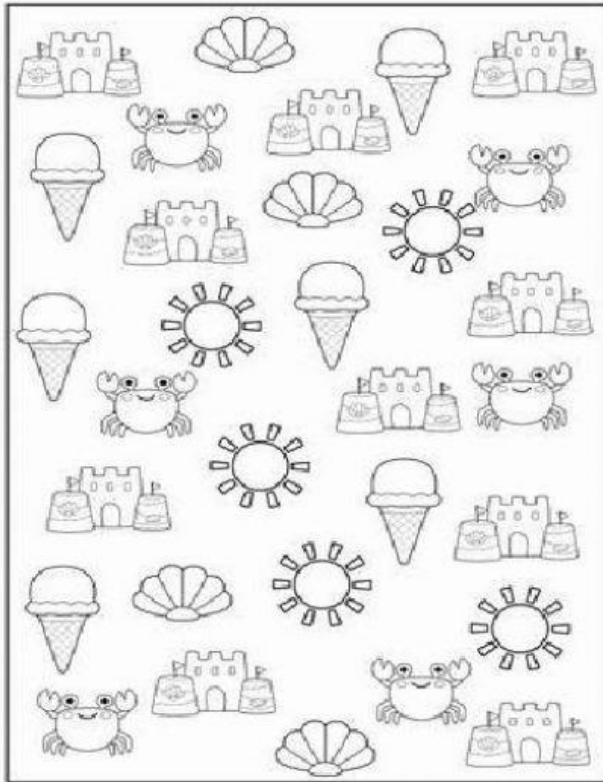
VALORACIÓN TRIMESTRAL SEGUNDO TRIMESTRE

Estudiante:

Docente: YENNY CARVAJAL

Fecha:

1º Cuenta y colorea según la cantidad luego responde



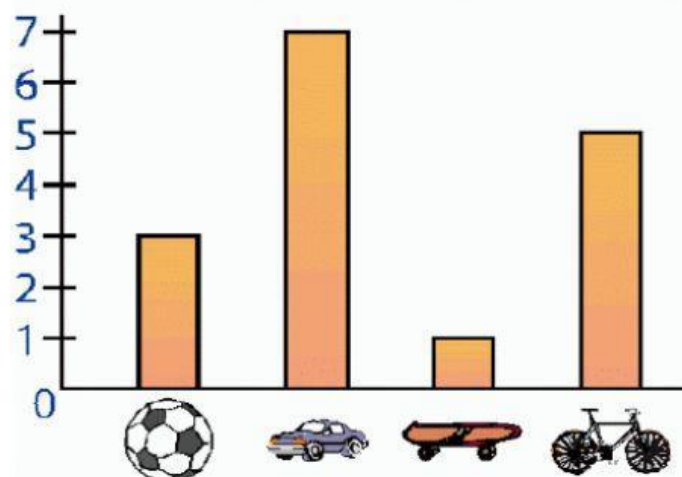
10					
9					
8					
7					
6					
5					
4					
3					
2					
1					

❖ ¿Qué objeto hay más? \_\_\_\_\_

❖ ¿Qué objeto hay menos? \_\_\_\_\_

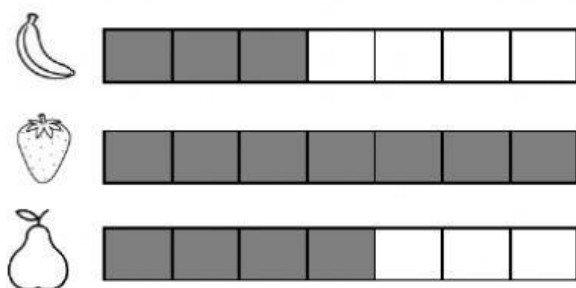
❖ ¿Cuántos cangrejos hay? \_\_\_\_\_

2º Observo el gráfico que hizo Marcos para contabilizar los juguetes que tiene y luego completa...



- ¿Cuántos balones tiene? \_\_\_\_\_
- ¿Cuántos carros tiene? \_\_\_\_\_
- ¿Cuántas patinetas tiene? \_\_\_\_\_
- ¿Cuántas bicicletas tiene? \_\_\_\_\_

4º Observa el diagrama de barras. completa la tabla y responde...



FRUTA PREFERIDA	CANTIDAD DE NIÑOS

1. ¿Cuál es la fruta preferida de los niños? \_\_\_\_\_
2. ¿Cuál es la fruta menos preferida de los niños? \_\_\_\_\_
3. ¿A cuántos niños le preguntaron? \_\_\_\_\_